

乐恩教育
学员专用

2017 下半年重庆市公务员录用考试 《行政职业能力测验》试卷

重要提示：

为维护您的个人权益，确保公务员考试的公平公正，请您协助我们监督考试实施工作。

本场考试规定：监考老师要向本考场全体考生展示题本密封情况，并邀请 2 名考生代表验封签字后，方能开启试卷袋。

条形码
粘贴处

请将此条形码揭下，
贴在答题卡指定位置

第一部分 言语理解与表达

(共 40 题, 参考时限 35 分钟)

本部分包括表达与理解两方面的内容。请根据题目要求, 在四个选项中选出一个最恰当的答案。

请开始答题:

1. 在我们赖以生存的蓝色星球上_____着几块色彩斑斓的陆地, 那是地球的五大洲, 在陆地之间_____着辽阔的蓝色水域, 那是地球的四大洋。这里有生命存在, 生物活跃在多彩的生态系统中, 它们_____这个星球以绿色的情调和生命的意义。

依次填入划横线部分最恰当的一项是:

- A. 嵌入 布满 呈现 B. 勾勒 填充 馈赠
C. 镶嵌 充盈 赋予 D. 勾画 覆盖 给予

2. 2012 年新修改的民事诉讼法增加了对公益诉讼制度的规定, 这是环境公益诉讼在程序法方面的进步, 但仍然缺少具体规定来_____。而在司法实践中, 由于相关法律条文的缺失, 导致法院不受理环保诉讼的情况_____。

依次填入划横线部分最恰当的一项是:

- A. 支撑 屡屡发生 B. 解释 不足为奇
C. 支持 时有发生 D. 指导 屡见不鲜

3. 在一些平淡的日子里, 我们平静甚而不拒凡俗地活着。我们那颗被生活磨蚀得有些麻木的心, 难免嗟叹于岁月的无情和命运的多舛, 甚而_____地让青春做了岁月的附庸。然而, 当我们用心去揣摩生活中类似于老蚌衔珠、蛹化为蝶、万涓成河的人生规则时, 我们会_____ : 那不正是平凡生命历经苦痛与岁月抗衡而编织的辉煌吗? 不正是有限生命在无涯岁月中定格成永恒的证明吗?

依次填入划横线部分最恰当的一项是:

- A. 逆来顺受 黯然神伤 B. 转危为安 兴高采烈
C. 心安理得 幡然顿悟 D. 随遇而安 恍然大悟

4. “扶老人”的争议背后有深刻的社会道德因素, 也_____了医保制度的不完善带来的养老之痛。老人们“摔不起”“病不起”, 一些老人及其亲属承担不了老人住院的后果, 加剧了一些无责任人的“扶不起”_____。

依次填入划横线部分最恰当的一项是:

- A. 影射 窘迫 B. 揭露 尴尬
C. 折射 窘境 D. 暴露 困境

- C.艺术的天性表现在对特定时代的超越中
- D.考察特定时代艺术的价值不能脱离时代

24.就像谁都知道《三字经》的头两句“人之初，性本善”一样，凡是中华子孙大概没有不知道“赵钱孙李，周吴郑王”是出自《百家姓》的，“周吴郑王”现在居然还成了俗语。但是能接着“人之初，性本善”而随口道出《三字经》前十句的人，恐怕不会很多；就《百家姓》而言，除了“赵钱孙李，周吴郑王”以外，还能对它有所了解的人，或许也是很少的吧

对文意概括最准确的是：

- A.对于传统文化，我们往往不求甚解
- B.对于传统文化，我们往往不了了之
- C.对于传统文化，我们往往是“三分钟热血”
- D.对于传统文化，我们往往是“假熟悉真陌生”

25.风俗既然是历史的产物，就不可避免地随着历史的发展而变化，但凡能够存在的，都有其依存的自然条件和社会环境。沧海桑田的变化，经济的发展，制度的更迭，都会促使风俗变迁，有些旧风俗的衰亡犹如新风俗的兴起一样，是自然和社会的新陈代谢，是合理的现象。衰亡的不一定都要复兴，有的不妨任其自生自灭。例如建国初有的少数民族文字已经消亡，中国社会科学院少数民族语言研究所曾经帮助这些民族恢复文字，但事与愿违，不受当地人的欢迎，因为他们认为学会本民族的文字，走不出家乡，宁可选择学汉字。但是，这种文字既然在历史上存在过，就是一份值得珍视的文化遗产，需要作为文物保存在历史记忆中，让现代人感知先人的智慧，使其“亡而不忘”。

这段文字意在强调：

- A.应该从历史发展的角度对待风俗
- B.风俗是一种无法复制的非物质遗产
- C.风俗的变迁是多种因素耦合的结果
- D.风俗作为一种文化遗产应大力保护

26.谷歌掌门人施米特宣称“互联网即将消失”。其实，施米特指的是互联网即将被改造成“物联网”，即从以人与人之间的文本图像交流为主被改造成以物与物之间的连接为主，使人在相互联系的同时能够监控操纵各种人造物和机器设备。这样，在“大数据”的背景下，人们就会沉浸在与我们现在所处的物理世界在经验上难以分别的虚拟世界。

从这段文字，可以看出作者的态度是：

- A.物联网将用户端延伸和扩展到了物品与物品之间
- B.物联网通信技术更具有公众的共性化和资源的共享性
- C.物联网技术与虚拟世界的融合，将改变多数人的生活方式

D.未来，物联网技术将全面取代互联网技术

27.在促使近代科学产生的外部原因中，清教主义的兴盛是一个相当重要的因素。学者们认为，近代科学的一个前提性的假设就是一种广泛传播、出自本能的信念，相信存在事物的秩序，特别是自然的秩序。科学史专家以具体资料表明：在 17 世纪英国皇家学会会员中，十个当中就有七个是清教徒，这一比例大大高于清教徒在总人口中所占的比例；大多数科学家都是活跃的教士，而很多教士也鼓励或亲自投身科学事业；清教学校在其课程中也会设置自然科学科目。

这段文字意在说明：

- A.清教主义在十七世纪盛行的原因
- B.宗教与科学之间并非是绝对对立的
- C.宗教对近代科学具有催生及促进作用
- D.近代科学的前提性假设与宗教的渊源

28.知识岗位与工业岗位之间存在极大的不同。因为想象力的迸发需要时间，知识型工作者在短期内很难取得成果，但他们的工作一旦取得突破，就能让生产力大幅度提高，所以以论文或者其他指标为考核标准的计件工资不适合这些人；因为思想不能像开关一样随意调控，知识型工作者也没有明确的上下班时间，因此低水平的计时工资也不适合这些人。但遗憾的是，这些问题还没有得到足够重视，也就没有得到有效解决。

这段文字主要说明了：

- A.知识型人才需要得到长期的经济支持
- B.高素养人才是创新型经济的重要依托
- C.对知识型工作者的考核方式并不合理
- D.知识型人才与其他人才有很大的不同

29.2015 年 8 月，在北京举办的田径世锦赛男子 100 米比赛中，中国选手苏炳添以 9 秒 99 的成绩闯进决赛，成为历史上首位进入世锦赛该项目决赛的黄种人。从历史上看，世界田坛男子百米跑的胜者与运动员天生的种族基因关系很大。百米跑冠军长期被白种人、黑种人垄断，难觅黄种人身影。曾经，苏炳添 1.72 米的身高被人认为是跑步的劣势。体育学者认为，“这一突破对于苏炳添本人以及中国田径界的意义非常重大。体育训练就是通过不断地调整，让运动员的优势得到更大发挥，劣势得到不断补偿。”

根据这段文字，下列说法正确的是：

- A.影响运动员成绩的因素很多，先天的东西很难被后天所改造
- B.在百米跑等田径运动中，不能简单地认为个子矮一定是劣势
- C.黄种人身体存在先天劣势，难以在田径运动中处于上风

D.不同基因的人种存在着很大的生理差异，已成普遍共识

30.木桶的容量由最短的那块木板决定，义务教育公平程度、群众对教育的满意程度，也由教育资源中的短板决定。推进均衡发展，不能截长以补短，应努力补短来追长。因而教育发展的思路，应该是把工作重点放在补足短板上，强化弱势学校，努力缩小地区、城乡和校际差距。

最适合做这段文字标题的是：

- A.取长补短，促进教育公平
- B.教育均衡，更需重视补短
- C.善于截长，平衡名校资源
- D.克服短板，缩小校际差距

31.我们总以为真理掌握在多数人手里，事实上是这样的吗？不是，多数人掌握的是舆论。当真理被发现之前，公众有谁会掌握呢？而一旦被有识之士发现了，又有几个人能很快接受呢？伽利略在比萨斜塔证明自由落体速度与质量无关前，谁又不是认为重的物体比轻的落得快呢？一旦大家接受了伽利略的观点，就形成了公众的舆论，所以，舆论包含有真理和谬论的双重成分。真理总是在不断地被少数有识之士发现，进而推广为公众舆论，从而掌握到多数人手里，因此，_____。

填入划横线部分最恰当的一句是：

- A.公众舆论是真理生根发芽的土壤
- B.真理演变为舆论的过程是曲折而又漫长的
- C.社会公众只是真理的被动接受者和推广者
- D.“少数服从多数”的原则阻碍了真理的诞生

32.①所以，在医生准入这件事情上，任何国家都不敢“任性”，宁缺毋滥

- ②良医治病，庸医要命
- ③让不合格的人穿上白大褂，等于让“隐形杀手”混入医生队伍
- ④而庸医之害，甚于无医
- ⑤医生有良医和庸医之分
- ⑥如果良医短缺了，就用庸医来充数，无异于饮鸩止渴，拿人命当儿戏
- ⑦降低当医生的门槛，必然导致医疗质量下降，最终受害的是患者

将以上 7 个句子重新排列，语序正确的是：

- A.⑦⑤②⑥③④①
- B.③⑥⑤②④⑦①
- C.⑤②④⑥⑦③①
- D.⑥⑤④⑦②③①

33.风电场的机型选择非常重要，可根据当地的风况选择适当容量的风力发电机型。从经济效益出发，单机容量大，单位装机千瓦值就低，便更要考虑其年发电量的多少，不能盲目求大，若单机容量过大，额定风速太高，而年平均风速不能满足其工作时间的要求，则发电量低反而白白浪费了

投资。同一风电场的风力机组应尽可能品种少，以利于运行和维修，在有条件的情况下，应该选择质量可靠的国产风力机组，完全依赖进口风力机，不仅造价高，且售后服务麻烦，备品备件供货不便，都将影响风电场的运行。

对这段文字理解正确的是：

- A.单机容量与经济效益不成正比
- B.风电场建设不能完全依赖进口
- C.选择风力发电机不能盲目贪大
- D.国产风力机组优于进口的机组

34.追根溯源，一个基本问题是：为什么要在交流中匿名？社会上对匿名的普遍态度是：你采取匿名，是因为你需要隐瞒某些东西，而这使你看上去不大像一个好人。好人一贯光明正大，不会偷偷摸摸、鬼鬼祟祟。问题在于，如果围绕好人左右的人也都很好，好人的确不需要偷偷摸摸；但事实上，每一个稍具常识的人都知道，到处充满了随时准备利用他人弱点、背叛他人信任的小人。本来我们可以拥有一个完全公开的世界，不幸的是，良好的期望与残酷的现实总是相距甚远。

这段文字意在说明：

- A.匿名交流是无奈之举
- B.理想是美好的，现实是残酷的
- C.匿名可以保护人的隐私权
- D.我们所处的环境充满很多潜在危险

35.2011 年是我国玉米单产最高年份，但全国玉米平均单产也只在 383 公斤/亩。与主产国相比有差距，我国玉米单产排在世界 21 位，与美国等发达国家平均亩产 600 多公斤相比，差距更大。我国同一生态区的省际间玉米单产水平差异也很大。目前我国玉米种植密度普遍偏低，全国平均每亩 3500 株左右，而美国种植密度平均达到 5000 株。据专家分析，如果我国玉米种植密度每亩增加 500 株，再配套相应的技术措施，亩产可提高 50 公斤以上。

这段文字的主旨是：

- A.我国提高玉米单产潜力比较大
- B.我国玉米种植技术还比较落后
- C.中美两国玉米种植技术差距较大
- D.我国区域玉米单产水平差异比较大

36.当代中国的确存在认同危机，然而这种认同的来源还需要商榷。分享共同的文化价值、文化理念当然是一种，但是在当下，儒家的君臣父子等理念是否有足够的社会基础，继而成为具有强大凝聚力的价值观值得怀疑。至少当今世界的价值资源很多，儒家只是其中一种，而它的功能也无须

过分高估。

通过这段文字，作者想表达的主要观点是：

- A.儒家思想已不具备足够的社会基础
- B.当代中国认同危机的根源难以确定
- C.儒家理念能否作为认同的来源值得探讨
- D.儒家的社会整合功能被高估

37.旅途中不可能都是美妙的风景，也有黄沙满地、满目荒凉的时候。现实中也不可能总是一帆风顺，也会有烦恼，有悲痛，有奔波劳苦的际遇。但，废墟中挺立的城堡才更坚固，荒芜中亮起的美景才更养眼。人生需要修剪，以保证生命的精致、华美，但在心的某个角落，还请高抬贵手，留下一寸荒芜。那么，你便留下了最原始的风，留下了最初的蛮夷和悸动，留下了麋鹿和野兽的气息，留下了纯天然的味道。

通过这段文字，作者想表达的观点是：

- A.人生总是有时高潮，有时低谷
- B.有缺陷的美更加真实生动
- C.应该给自己的心留点空间
- D.完美本身也是一种缺憾

38.当前，“科学技术是一把双刃剑”成为一种越来越被认可的说法。科学转化为技术，再通过人的运用对自然产生影响，如果运用不当或超过适用条件，势必会出现负面影响。科学本身哪怕是纯洁的、无辜的，但是在它的基础上延伸出来的技术应用所带来的负面影响是很难避免的。所以，这种说法被着重强调的时候，人们关注的其实是科学的负面作用，它削弱了“科学是正确”的传统形象，从而也影响了科学在大众中的公信力，给科学发展带来阻碍。

关于这段文字，以下理解准确的是：

- A.人们应该关注科学给人类社会带来的负面作用
- B.“科学技术是一把双刃剑”这种说法越来越被认可，这种趋势有碍科学发展
- C.科学的技术应用延伸出来的负面影响反映出科学并不是绝对正确的
- D.人们总是将自己运用不当或超过适用条件上的后果归结为科学的错

39.不是每个走上运动场的孩子，将来都会成为李娜、孙杨、林丹，但一个从小接受终身体育理念的孩子，注定会在未来的岁月里因为体育运动受益终身。因为体育运动蕴含着丰富的精神力量——喜怒哀乐、团结协作、激情勇敢、坚持奋进。不管时代怎么变，不管流行是什么，来自于体育的精神从未改变过。体育在欧美发达国家早就是最好的教育手段，一个年轻人如果没有擅长的体育项目，甚至很难交到朋友。

这段文字意在说明：

- A. 体育对于塑造年轻人的优秀品质有重要作用
- B. 欧美发达国家更加重视体育教育
- C. 体育对于年轻人的社交活动很重要
- D. 爱好体育的孩子将来更容易成功

40. 城乡价值观念和行为习惯的诸多差异，给进城务工的农民带来了极大的文化冲击。他们中的很多人通过社会学习，积极地参与社会生活，掌握城市社会的知识、技能和规范，逐步适应和融入了城市社会。但在这个过程中也有不少人成了“双重边缘人”，他们对家乡农村和农业的依恋在减退，不愿或无法回归农村社会，但同时又未能真正适应、融入城市。

关于这段文字，以下理解准确的是：

- A. 很多农民因对家乡农村和农业不再依恋而进城务工
- B. 融入城市失败导致很多进城务工农民无法回归农村社会
- C. 进城务工农民可以通过学习等方式克服城乡文化差异带来的冲击
- D. 城乡文化差异是很多进城务工农民无法适应、融入城市的直接原因

※※※第一部分结束，请继续做第二部分！※※※

第二部分 数量关系

(共 10 题, 参考时限 15 分钟)

在这部分试题中, 每道题呈现了一段表述数字关系的文字, 要求你迅速、准确地计算出答案。

请开始答题:

41. 一项工程, 如果小王先单独干 6 天后, 小刘接着单独干 9 天可完成总任务量的 $\frac{2}{5}$; 如果小王单独干 9 天后, 小刘接着单独干 6 天可完成总任务量的 $\frac{7}{20}$ 。则小王和小刘一起完成这项工作需要多少天?

A.20 B.22 C.24 D.28

42. 某单位两座办公楼之间有一条长 204 米的道路, 在道路起点的两侧和终点的两侧已各栽种了一棵树。现在要在这条路的两侧栽种更多的树, 使每一侧每两棵树之间的间隔不大于 12 米。如栽种每棵树需要 50 元人工费, 则为完成栽种工作, 在人工费这一项至少需要做多少预算?

A.800 元 B.1600 元 C.1700 元 D.1800 元

43. 某公司有 38 名男员工, 27 名女员工。现要参加集团组织的羽毛球比赛, 如采取自由报名的形式, 至少有多少名员工报名才能保证一定能从报名者中选出男女选手各 8 名参赛?

A.35 B.40 C.46 D.16

44. 某校有 120 名学生, 允许选修 A、B、C 三门课。选修 A 的有 60 人, 选修 B 的有 65 人, 选修 C 的有 55 人, 兼选 A、B 的有 30 人, 兼选 B、C 的有 40 人, 兼选 A、C 的有 35 人, 而 A、B、C 都选的人数不详。那么三科都没有选的学生最少有多少人?

A.5 B.10 C.15 D.55

45. 某次专业技能大赛有来自 A 科室的 4 名职工和来自 B 科室的 2 名职工参加, 结果有 3 人获奖且每人的成绩均不相同。如果获奖者中最多只有 1 人来自 B 科室, 那么获奖者的名单和名次顺序有多少种不同的可能性?

A.48 B.72 C.84 D.96

46. A、B 两组各有 7 位病人, 他们服用某种药物后的康复时间 (单位: 天) 记录如下:

A 组	10	11	12	13	14	15	16
B 组	12	13	15	16	17	19	21

假设所有病人的康复时间相互独立, 从 A、B 两组随机各选 1 人, A 组选出的人记为甲, B 组选出的人记为乙, 求甲的康复时间比乙的康复时间长的概率?

A. $\frac{8}{49}$

B. $\frac{11}{49}$

C. $\frac{13}{49}$

D. $\frac{37}{49}$

47.甲、乙两辆车从 A 地驶往 60 千米外的 B 地，两车的速度比为 4 : 5。甲车于上午 10 点半出发，乙车于 10 点 40 分出发，最终两车同时到达 B 地。问甲、乙的速度分别是多少千米/小时？

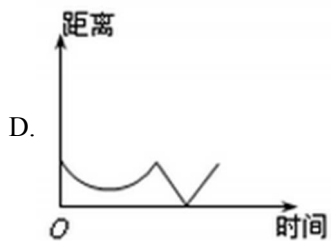
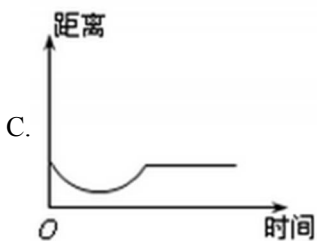
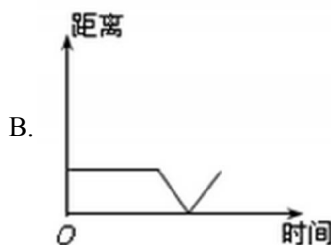
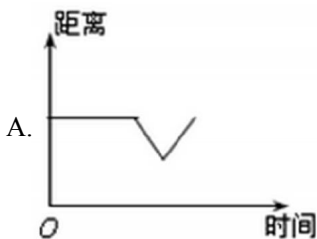
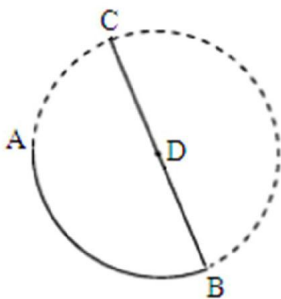
A.88, 110

B.84, 105

C.76, 95

D.72, 90

48.如图，一艘旅游船从 A 点驶向 C 点。旅游船先从 A 点沿以 D 为圆心的弧 AB 行驶到 B 点，然后从 B 点沿直径行驶到圆 D 上的 C 点。假如旅游船在整个行驶过程中保持匀速，则下面各图中能反映旅游船与 D 点的距离随时间变化的图象大致是 ()。



49.小张购买艺术品 A，在其价格上涨 X%后卖出盈利 Y 元，用卖价的一半购买艺术品 B，又在其价格上涨 X%后卖出盈利 Z 元，发现 $Z > Y$ 。则 X 的取值范围：

A.小于 200

B.大于 200

C.小于 100

D.大于 100

50.一瓶浓度为 80%的酒精溶液倒出 $\frac{1}{3}$ 后再加满水，再倒出 $\frac{1}{4}$ 后仍用水加满，再倒出 $\frac{1}{5}$ 后还用水加满，这时瓶中溶液的酒精浓度是（ ）。

A.50%

B.30%

C.35%

D.32%

※※※第二部分结束，请继续做第三部分！※※※

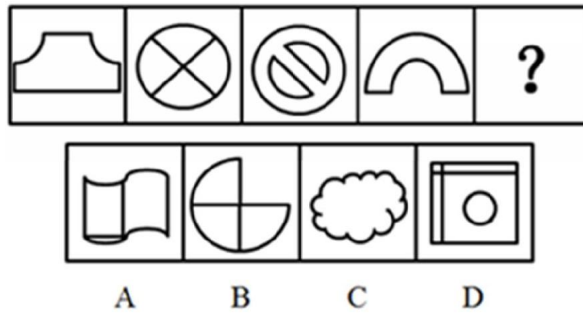
第三部分 判断推理

(共 30 题, 参考时限 30 分钟)

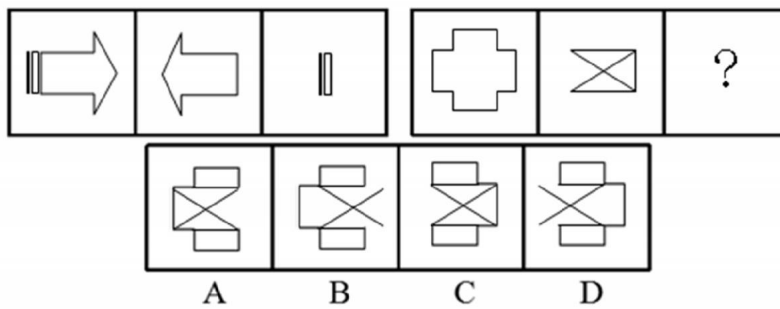
一、图形推理。请按每道题的答题要求作答。

请开始答题:

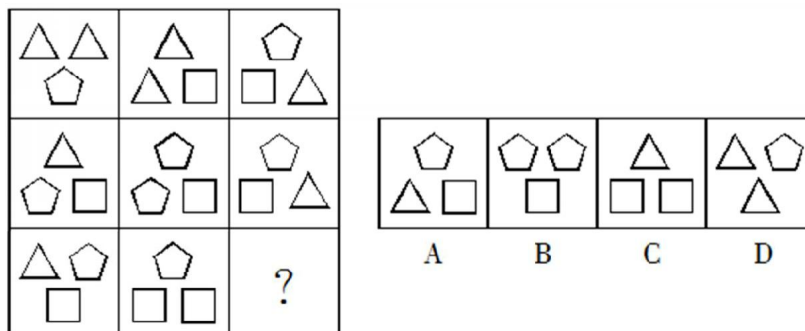
51. 从所给四个选项中, 选择最合适的一个填入问号处, 使之呈现一定规律性:




52. 从所给的四个选项中, 选择最合适的一个填入问号处, 使之呈现一定的规律性:



53. 从所给四个选项中, 选择最适合的一个填入问号处, 使之呈现一定的规律性:

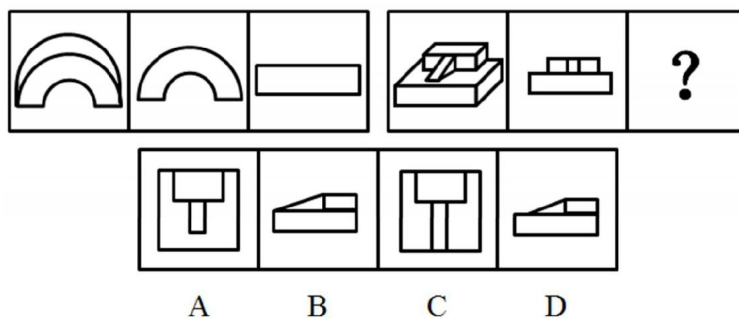


54.把下面的六个图形分为两类，使每一类图形都有各自的共同特征或规律，分类正确的一项是：



- A. ①②③, ④⑤⑥
B. ①③⑤, ②④⑥
C. ①②④, ③⑤⑥
D. ①④⑥, ②③⑤

55.从所给的四个选项中，选择最合适的一个填入问号处，使之呈现一定的规律性：



二、定义判断。每道题先给出定义，然后列出四种情况，要求你严格依据定义，从中选出一个最符合或最不符合该定义的答案。注意：假设这个定义是正确的，不容置疑的。

请开始答题：

56.倾销，是指企业在国外出售商品的价格低于国内市场的价格或低于生产成本。

根据这一定义，下列行为不属于倾销的是：

- A.某国以低于产品正常价值的价格向他国销售新闻纸
B.某企业在国内有较高的垄断地位和较大的市场份额，但质量不如国外同类产品，为了抢占国际市场，该企业以低于成本价的价格在他国销售
C.某地为著名的蔬菜生产基地，由于采用先进的科学技术和规模化经营，其生产的蔬菜的价格远远低于国外同类产品的价格
D.某国软件公司为了获得他国政府采购的订单，与他国同类软件竞争，以低于该产品在本国的销售价格投标

57.错觉是一种视觉误差，是人们观察物体时，由于物体受到形、光、色的干扰，加上人们的生理、心理原因而误认物象，会产生与实际不符的判断。

根据上述定义，下列不属于错觉的是：

- A.一个突然失去儿子的母亲，有时觉得自己看到了儿子的身影
- B.坐在行驶的火车上看着窗外的树木时，会以为树木在移动
- C.身材偏胖的人穿竖条纹服装会显得苗条一些
- D.杯弓蛇影

58.手表定律是指一个人有一只表时，可以知道现在是几点钟，而当他同时拥有两只显示时间不一致的表时却无法确定。两只表并不能告诉一个人更准确的时间，反而会使看表的人失去准确判断时间的信心。

根据上述定义，以下选项中所述内容不属于手表定律的是：

- A.在两个显示不同路线的导航系统的指挥下，驾驶员会感到非常慌张
- B.对于一个任务，目标应尽量明确，评价体系应尽量单一具体
- C.一个人走入超市，想买些什么，但是又不是很确定，最后什么也没有买
- D.一个如果同时选择两种不同的价值观，他的行为很可能会陷于混乱

59.次生丑闻：指某地或某人曝出某个丑闻后，又连续牵出的其他丑闻。

下列不属于次生丑闻的是：

A.某市一官员的“艳照门”传得沸沸扬扬，记者在其政府网站上核查该官员履历时，意外发现网上其他领导的视察照片居然有不少是 PS 的

B.在会场上抽天价香烟的某官员被曝光停职后，网民们继续搜索，很快发现他名下有多套来源不明的房产

C.新华社一篇题为《看似有隐情，其实真忽悠——盘点那些曾经的“官谣”》的文章，梳理了近年来各地出现的“官谣”案例

D.故宫失窃案见诸报端后，由于故宫方面应对不当，“失窃门”又牵出了“错字门”、“会所门”、“瞒报门”

60.转基因技术，是指将人工分离和修饰过的基因导入到生物体基因组中，以此引起生物体性状可遗传的修饰。

下列不属于转基因技术的是：

A.把青椒种子送上太空，使其在完全失重状态下发生基因突变来培育“彩色青椒”

B.将外源抗菌基因导入小麦，防治小麦赤霉病、纹枯病、根腐病等真菌性病害

C.用反转录病毒作为载体，把腺苷脱基因转染至一名患 ADA 缺陷症女孩的淋巴细胞，使这个患者先天缺损的免疫系统趋于正常

D.运用反转录病毒为载体携带生长激素基因导入动物，相继培育出快速生长的转基因猪、羊、鸡、兔和牛等

61.心理社会能力是个体对需要处理的事项或挑战有一定的预见性和可控性，能够有效地处理日常生活中的各种需要和挑战的能力，是个体保持良好的心理状态，并且在人——己、人——人、人——事、人——物的相互关系中表现出适应和积极的行为能力。

根据上述定义，下列个体事件属于心理社会能力范畴的是：

- A.林某拟参加某地街舞大赛，后因中途发生交通事故受重伤退出
- B.郑某因突然发病不能胜任高原地区工作，被调至平原地区就业
- C.田某前往沿海某岛屿探险，因遭遇火山突然大爆发而被迫终止
- D.李某期末考试多门功课不及格，受到老师批评指责后发奋学习

62.生物节律是一种生物内在的、复杂而精细的生理调节系统，它使动植物得以根据外界环境的周期性变化来协调自身新陈代谢及各种生理过程，从而与环境保持同步。

根据上述定义，下列哪项不属于生物节律的范畴？

- A.银汉鱼只在涨潮时在岸上产卵
- B.蜜蜂通过比较太阳与自身的位置关系来辨别方向
- C.蒲公英每天以半小时为周期绽放、凋落
- D.旅客乘飞机到国外需要休息一两天倒时差

63.同类对象错误，指行为人意图侵害的对象与实际侵害的对象不一致，但属于同一类的，应当按照犯罪既遂定罪处罚。非同类对象错误，指行为人意图侵害的对象与实际行为侵害的对象不一致，且不属于同一类，只能根据行为人的主观故意内容认定犯罪性质。

根据上述定义，下列说法正确的是：

- A.甲误将乙当作丙而杀死，应当以故意杀人罪既遂处罚
- B.甲误把动物当成人而加以杀害，应当不成立犯罪
- C.甲误把人当成动物而加以杀害，应当成立故意杀人罪
- D.甲误把他人放置的财物当成垃圾扔掉，成立犯罪

64.回避条件作用是指当厌恶、刺激或不愉快的情景出现时，个体做出某种反应，从而逃避了厌恶、刺激或不愉快情景，则该反应在以后的类似情景中发生的概率增加。

根据以上定义，下列不属于回避条件作用的一项是：

- A.因为贪睡不愿起来吃早餐
- B.碰到烫的东西，赶紧缩回手来
- C.感觉屋内人声嘈杂时暂时离开
- D.看见地上的垃圾后绕开走

65.行政指导是指行政主体在其所管辖的权限内，为适应复杂多变的经济和社会需要，依据国家法律或政策，适时灵活地采取引导、劝告、建议、协商、示范、制定导向性政策，发布有关信息等非强制性手段，在行政相对方的同意或协助下，实现一定行政目的的行为。

根据上述定义，下列属于行政指导的是：

- A.中国政府向各国政府发出共同投资设立亚投行的倡议
- B.甲市气象局在台风来临之际向市民发出橙色预警信号
- C.乙区人民政府与科研院所签订一份研发高科技产品的合同
- D.丙县人民政府号召该县农民种植水蜜桃，并提供优惠贷款

三、类比推理。每道题先给出一组相关的词，要求你在备选答案中找出一组与之在逻辑关系上最为贴近、相似或匹配的词。

请开始答题：

66.阴晴圆缺：月亮

- A.潮涨潮落：海洋
- B.天高云淡：金秋
- C.暮鼓晨钟：时光
- D.稍纵即逝：机会

67.白驹过隙：度日如年

- A.潜移默化：耳提面命
- B.浮光掠影：鞭辟入里
- C.阳春白雪：曲高和寡
- D.字斟句酌：咬文嚼字

68.党员：干部：青年

- A.化合反应：氧化反应：化学反应
- B.芦苇：吊兰：鸢尾
- C.处长：教授：博士
- D.检察官：检察长：检察员

69.针筒：注射器：医疗器械

- A.飞机：螺旋桨：推进装置
- B.潜艇：核潜艇：核反应堆
- C.齿条：千斤顶：起重设备
- D.泳衣：比基尼：游泳服饰

70.松柏 对于 () 相当于 () 对于 谦虚

- A.长寿，竹子
- B.竹子，品德
- C.火，热情
- D.长寿，长蒿

四、逻辑判断。每道题给出一段陈述，这段陈述被假设是正确的，不容置疑的。要求你根据这段陈述，选择一个答案。注意：正确的答案应与所给的陈述相符合，不需要任何附加说明即可以从陈述中直接推出。

请开始答题：

71.壳牌石油公司连续三年在全球 500 家最大公司净利润总额排名中位列第一，其主要原因是该公司比其他公司有更多的国际业务。

下列哪项如果为真，则最能支持上述说法？

- A.与壳牌公司规模相当但国际业务少的石油公司的利润都比壳牌石油公司低
- B.历史上全球 500 家大公司的净利润冠军都是石油公司
- C.近三年来全球最大的 500 家公司都在努力走向国际化
- D.近三年来石油和成品油的价格都很稳定

72.某舞蹈队现有三名女队员王虹、张静和高薇，她们是好朋友，来自不同省份，或者来自甘肃，或者来自山东，或者来自广西。高薇见过张静的姐姐，高薇的国标舞比来自广西的队员跳得好。来自山东的队员是独生女，其国标舞是三人中跳得最不好的。

由此可以推出：

- A.王虹来自甘肃，张静来自广西
- B.张静来自广西，高薇来自甘肃
- C.高薇国标舞跳得最好，张静跳得最不好
- D.王虹国标舞跳得最不好，张静跳得最好

73.植被具有明显的年际变化和季节变化的特点，并且是连结土壤、大气和水分的自然“纽带”，在一定的程度上能代表土地覆盖的变化，在全球变化研究中充当“指示器”的作用。研究表明，在全球尺度和洲际尺度上，气温升高是导致全球特别是北半球植被活动增加的主导因素。由此可以通过植被活动的增加的情况判断某一地区气温的变化趋势。

以下哪项如果为真，能够成为上述结论的前提条件？

- A.植被本身的年际变化和季节变化特点受气温变化的影响较小
- B.南半球植被活动还受到了植被类型、纬度等因素的主导
- C.植被覆盖类型等其他因素对当地植被活动影响不大
- D.植被活动是全球气温变化最佳的“指示器”

74.2016 年世界杯亚洲区预选赛中，身陷“死亡之组”的中国国足客场输给卡塔尔，面对弱旅中国香港男足两连平，出线形势仅存在理论上的可能，国内足坛一片哗然，倒逼足协改革。对此，足协推出改革方案，对领导层进行了调整，规划了足球向全民运动发展的目标，同时对球员在场上的拼搏精神和团结作风做出了严格的要求。有圈内人士认为如果足协的改革能够提前两三个月进行的话，中国男足的竞技水平定能快速提高，不至于出线希望如此渺茫。

以下哪项为真，最能削弱该圈内人士的观点？

- A.国足面对弱旅泰国队曾制造过 1:5 的“惨案”

- B.近年来，中国的足球人口有了较大的增长
- C.在足协的计划中，校园足球是很重要的一部分
- D.足球竞技水平的提高并非一朝一夕之事，需要长时间的积累

75.某学校要从甲、乙、丙、丁、戊、己、庚七名学生中挑选四人组成一个辩论队，去参加全市的辩论比赛。根据平时的训练情况，挑选必须满足下列条件：

- (1) 如果戊参加，则丙也要参加；
- (2) 除非乙参加，否则庚不参加；
- (3) 甲和乙中至少有一人参加，但不能都参加；
- (4) 戊和己中至少有一人参加，但不能都参加。

根据以上陈述，以下哪些学生一定会参加辩论比赛？

- A.乙或庚，或者二人都参加
- B.戊或庚，或者二人都参加
- C.丙或丁，或者二人都参加
- D.丙或戊，或者二人都参加

76.拥挤的居住条件导致的市民健康状况明显下降，是A城面临的重大问题。因为A城和B城两个城市的面积和人口相当，所以A城所面临的上述问题必定会在B城出现。

以下哪项最能反驳上述结论？

- A.未能准确区分人口数量和人口密度这两个概念
- B.未能准确区分一个城市的面积和人口这两个概念
- C.拥挤的居住条件是导致市民健康状况下降的唯一原因
- D.忽略了相同的人口密度可以有不同的居住条件

77.在人一生当中，人脑会不断对脑神经连接进行“优化重组”，“修剪”掉多余的连接，以保证有用的连接更加快速通畅。研究人员选取了121名年龄在4~20岁的健康志愿者，利用磁共振技术，分析了这一年龄段神经连接随着大脑发育和成熟而发生的变化。结果发现，女性对脑神经连接开始“修剪”的时间普遍早于男性。因此研究人员认为，女性的大脑相比男性大脑更高效。

以下陈述如果为真，哪项无法支持上述结论？

- A.学龄期女孩往往表现出比同龄男孩更好的理解能力和语言能力
- B.脑神经连接“修剪”出错会导致自闭症，患病率性别差异显著
- C.男孩只能专注于一件工作的时候，女孩可以同时处理多项工作
- D.大脑“修剪”和“重组”之后使得各种认知活动效率提升很多

78.所有重点大学的学生都是聪明的学生，有些聪明的学生喜欢逃课，小杨不喜欢逃课，所以小杨不是重点大学的学生。

以下除哪项外，均与上述推理的形式类似？

A.所有经济学家都懂经济，有些懂经济的爱投资企业，你不爱投资企业；所以，你不是经济学家

B.所有的鹅都吃青菜，有些吃青菜的也吃鱼，兔子不吃鱼；所以，兔子不是鹅

C.所有的人都是爱美的，有些爱美的还研究科学，亚里士多德不是爱美的人；所以，亚里士多德不研究科学

D.所有被高校录取的学生都是超过录取分数线的，有些超过录取分数线的是大龄考生，小张不是大龄考生；所以小张没有被高校录取

79.“三九补一冬，来年无病痛。”一句俗语道出了冬季进补的重要性。但进补也不是什么有营养吃什么，需因人、因时、因地制宜。北方干冷需热补、南方潮热需利湿、东部湿重宜温补、西部风大宜润补。不同地域的不同特征，决定了不同地方的人就要选择不同的进补方式。

以下选项如果为真，最能削弱上述论述的是：

A.北方地区的人在炖汤时爱加入生姜、香菜等热补的配菜

B.西部地区的人爱吃润肺的食物，如百合、藕等等

C.近些年来，两广地带的人反倒选择温补类的食物

D.东西南北饮食文化的融合，使得有些人爱尝试异乡的饮食方式

80.有一段时间，满街的女人都爱穿“松糕鞋”（一种厚底皮鞋），以显得更高挑，但这种鞋却不是男人们的共识。现在这种鞋越发少见了，而一种尖头皮鞋又在悄然兴起。

由此可以推出：

A.女人都爱追赶潮流

B.市场上已没有“松糕鞋”销售了

C.以穿“松糕鞋”来显高说明女人的虚荣心

D.女人流行的各种服饰，很大程度上取决于异性的认同与否

※※※第三部分结束，请继续做第四部分！※※※

第四部分 常识判断

(共 20 题, 参考时限 10 分钟)

根据题目要求, 在四个选项中选出一个最恰当的答案。

请开始答题:

81. 地方各级人民代表大会代表, 有的是由下一级人民代表大会选举产生, 有的是由选民直接选举产生, 下列选项中由选民直接选举产生的人民代表大会代表是 ()。

- A. 省人民代表大会代表
- B. 直辖市人民代表大会代表
- C. 设区的市人民代表大会代表
- D. 市辖区人民代表大会代表

82. 下列关于行政许可听证制度的说法错误的是 ()。

- A. 行政机关举行听证可以依职权, 也可以依当事人申请
- B. 行政机关举行听证的可以向申请人、利害关系人收取必要的费用
- C. 行政许可直接涉及申请人与他人之间重大利益关系的, 申请人行政机关在做出行政决定前, 应当告知申请人、利害关系人享有要求听证的权利
- D. 申请人和利害关系人有权申请听证主持人回避

83. 下列经济指标与衡量对象对应关系正确的是 ()。

- A. 赤字率——财政风险
- B. 恩格尔系数——收入分配差距
- C. 基尼系数——居民生活水平
- D. 生产者物价指数——货币供应量

84. “十三五”规划建议于 2015 年 11 月 4 日公布, 这份建议是确立发展理念、明确发展思路的重要文件。这是“关系我国发展全局的一场深刻变革”“有着重大现实意义和深远历史意义”。下列关于“五大发展理念”说法不正确的是 ()。

- A. 创新发展主要解决发展动力问题, 着力提高发展质量和效益。
- B. 协调发展主要指协调区域、城乡、物质文明精神文明、国内国外发展。
- C. 开放发展主要解决发展内外联动问题, 着力实现合作共赢。
- D. 共享发展的部署包括推进健康中国建设、促进人口均衡发展等。

85. 2015 年 10 月 19 日, 国务院印发了《关于实行市场准入负面清单制度的意见》。《意见》明确, 从今年 12 月 1 日至 2017 年 12 月 31 日, 在部分地区试行市场准入负面清单制度, 探索形成全

国统一的市场准入负面清单及相应的体制机制, 从 2018 年起正式实行全国统一的市场准入负面清单

制度。关于“负面清单”，以下理解不准确的是（ ）。

A.市场准入负面清单制度的重要意义在于厘清市场与政府的边界

B.对市场主体而言，“法无授权不可为”；对政府而言，则是“法无禁止皆可为”，是市场准入制度改革的精神

C.实行市场准入负面清单制度后，如何依法依规并且有效地规范市场主体行为，防止陷入“放则乱、乱则收、收则死”的怪圈，切实维护好市场竞争秩序，是政府监管面临的重要课题

D.相比“正面清单”规定市场主体“可以做什么”，负面清单是一种更加开放、更加透明、更加公平的市场准入管理模式，也是规范和约束政府权力的有效方式

86.孔子被中国人尊称“至圣先师，万世师表”。其弟子把孔子及其弟子的言行语录和思想记录下来，整理编成著名的儒家学派经典的《论语》。《论语·为政》中孔子对于自己在30岁时所达到人生状态的自我评价：“吾十有五，而志于学。三十而立，四十而不惑，五十而知天命，六十而耳顺，七十而从心所欲，不逾矩”。下列说法错误的是（ ）。

A.“三十而立”中的“立”是指成家立业

B.“四十不惑”中的“不惑”是指对自己的原则不惑

C.“三十而立”也指确立自己在为人处事，对待生活的态度和原则

D.“五十知天命”中的“天命”是指不怨天、不尤人

87.下列诗句描写菊花的是（ ）。

A.纵被东风吹作雪，绝胜南陌碾成尘

B.不要人夸好颜色，只留清气满乾坤

C.疑是广寒宫里种，一秋三度送天香

D.寂寞东篱湿露华，依前金靥照泥沙

88.下列历史人物与其著名言论对应错误的是（ ）。

A.孟子——穷则独善其身，达则兼善天下

B.林则徐——苟利国家生死以，岂因祸福避趋之

C.梁启超——国家之主人是谁？即一国之民是也

D.曾国藩——天变不足畏，祖宗不足法，人言不足恤

89.苏轼在《赤壁赋》中写到：“壬戌之秋，七月既望，苏子与客泛舟游于赤壁之下。”在一阕《水调歌头》的序中说：“丙辰中秋，欢饮达旦，大醉，作此篇，兼怀子由。”文中所述的“夜游赤壁”和“中秋夜饮”（ ）。

A.“夜游赤壁”发生在前

B.“中秋夜饮”发生在前

C.两者同年发生

D.两者发生时间相隔了四年

90.下列有关文学常识的表述，正确的一项是（ ）。

A.《十日谈》、《愷吝人》、《钦差大臣》作者依次是意大利薄伽丘、法国莫里哀、俄罗斯果

戈里

B.《包法利夫人》、《苦难的历程》、《上尉的女儿》、《父与子》作者分别是福楼拜、托尔斯泰、普希金、契诃夫

C.世界名著《安娜·卡列尼娜》、《巴黎圣母院》、《约翰·克里斯朵夫》、《浮士德》的作者依次是列夫·托尔斯泰、果戈里、罗曼·罗兰、歌德

D.但丁、拜伦、歌德、普希金分别是法国、英国、德国、俄罗斯著名诗人

91.“生命中曾将拥有的所有灿烂，终究都需要寂寞来偿还。”这句话出自（ ）。

A.赛格唯 《麦田守望者》

B.马尔克斯 《百年孤独》

C.波德莱尔 《巴黎的忧郁》

D.纳兰性德 《通志堂家》

92.关于科学家的成就，下列说法正确的是（ ）。

A.阿基米德发现了杠杆原理

B.道尔顿提出了分子说

C.高斯创立了解析几何

D.爱迪生发明了炸药

93.下列关于卫星导航系统的表述不正确的是（ ）。

A.GPS 是欧盟建立的卫星导航系统

B.GPS 的信号强度与准确度是可控的

C.北斗导航系统是我国自主研发的卫星导航系统

D.“伽利略”导航系统是第一个基于民用的全球卫星导航系统

94.下列关于隐形飞机的原理，说法错误的是（ ）。

A.外层涂料的颜色为天蓝色或者银白色，以避免被雷达发现

B.隐形飞机采用非金属材料或者雷达吸波材料，吸收而不是反射雷达波

C.改进发动机的进气道和尾喷口等所有能产生镜面反射的表面，以减少对雷达波的反射

D.除了发动机、电子设备等部件，其他飞机上的部件用透波材料来制作

95.关于中国地理，下列说法错误的是（ ）。

A.九寨沟国家地质公园以雅丹地貌闻名

B.藏羚羊主要生活在可可西里国家级自然保护区

C.张家界国家森林公园处于武陵山脉的腹地

D.三江并流风景名胜区已被列入《世界遗产名录》

96.北京时间 2014 年 12 月 21 日 19:18；北半球迎来冬至。此刻，日期为 2014 年 12 月 22 日的地区约占全球面积的（ ）。

A.零

B.三分之一

C.二分之一

D.三分之二

97.下列有关世界著名建筑的表述，不正确的是（ ）。

A. “泰姬陵”位于泰国，是世界著名的纪念性建筑，有“泰国的珍珠”之称

B. “吴哥窟”古迹位于柬埔寨，是世界著名的佛教建筑，现在柬埔寨的国旗上就绘有吴哥庙的造型

C. 敦煌“莫高窟”又称千佛洞，位于甘肃省，莫高窟是集建筑、绘画、雕塑于一体的立体艺术，是世界上现存规模最宏大、保存最完好的佛教艺术宝库之一

D. “圣彼得大教堂”是世界上最大的教堂，位于梵蒂冈，教堂内有许多世界著名的雕像和浮雕，艺术价值极高

98. 我国古代有一位学者，运用阴阳五行、“天人合一”的理论，为君主专制统治提供了“天命攸（所）归”的神学依据。该学者应该是（ ）。

A. 韩非子 B. 孟子 C. 董仲舒 D. 朱熹

99. 下列选项中，按照诗句所代表的时间先后顺序排列正确的是（ ）。

①问东城春色，正谷雨，牡丹期

②露从今夜白，月是故乡明

③微雨众卉新，一雷惊蛰始

④麦穗初齐稚子娇，桑叶正肥蚕食饱

A. ③①④② B. ①④③② C. ②③①④ D. ①②③④

100. 马可·波罗描述中国古代的“刺桐”港是说：“亚历山大或他港运载胡椒一船赴诸基督教国，乃至此刺桐港者，则有船舶百余。”这里的“刺桐”港是指（ ）。

A. 宁波 B. 泉州 C. 广州 D. 福州

※※※第四部分结束，请继续做第五部分！※※※

第五部分 资料分析

(共 20 题, 参考时限 30 分钟)

所给出的图、表、文字或综合性资料均有若干个问题要你回答。你应根据资料提供的信息进行分析、比较、计算和判断处理。

一、根据下列资料, 回答 101~105 题。

2016 年 A 市实现生产总值 (GDP) 1765.94 亿元, 比上年增长 9.0%, 其中第一产业增加值为 92.13 亿元, 增长 4.8%, 第二产业增加值“X”亿元, 增长 7.4%, 第三产业增加值 753.07 亿元, 增长 11.6%, 全市人均生产总值达到 38179 元, 增长 8.5%。

全市农林牧渔业增加值 92.13 亿元, 比上年增长 4.8%。全市农作物播种面积 272.8 千公顷, 比上年增长 4.5%, 其中粮食播种面积为 159.4 千公顷, 总产量为 89.55 万吨, 分别比上年增长 3.2%和 2.2%; 棉花播种面积 5.8 千公顷, 产量为 0.94 万吨, 分别下降 2.0%和 3.0%; 油料播种面积为 25.6 千公顷, 产量为 4.64 万吨, 分别比上年增长 11.1%和 14.6%; 蔬菜播种面积为 42.6 千公顷, 产量为 92.49 万吨, 分别比上年增长 7.4%和 5.0%, 药材播种面积 7.1 千公顷, 增长 4.2%; 果用瓜种植面积 10.4 千公顷, 下降 2.0%, 产量 24.5 万吨, 下降 3.0%; 花卉苗木种植面积 9.4 千公顷, 增长 19.9%。

全市完成工业增加值 806.50 亿元, 比上年增长 6.5%。全市规模以上工业实现总产值 2652.70 亿元, 销售产值 2558.98 亿元, 分别增长 5.6%和 4.6%。

全市实现社会消费品零售总额 780.99 亿元, 比上年增长 15.6%, 城乡消费市场同步增长, 其中城市消费品零售额 577.90 亿元, 比上年增长 16.0%; 农村消费品零售额 203.10 亿元, 增长 14.5%。

分行业看, 批发零售贸易业零售额 693.0 亿元, 增长 15.9%; 食宿餐饮业零售额 79.20 亿元, 增长 14.2%。

101. 资料中“X”的值应为 ()。

- A.920.74 B.928.44 C.1046.78 D.1092.58

102. 估计 A 市 2016 年年末的总人口数与以下哪项最接近?

- A.380 万 B.460 万 C.510 万 D.550 万

103. 2016 年 A 市药材的播种面积比棉花多 ()。

- A.1.3 公顷 B.130 公顷 C.1300 公顷 D.13000 公顷

104. 2016年A市工业增加值占GDP的比重约为()。

- A.26.4% B.34.5% C.41.1% D.45.7%

105. 2015年, A市批发零售贸易业务销售额约是食宿餐饮业零售额的()。

- A.8.6倍 B.8.3倍 C.7.9倍 D.7.6倍

二、根据下列资料, 回答 106~110 题。

表 2013 年按行业分企业信息化及电子商务情况

行业	企业数(个)	企业员工(人)	企业拥有计算机数(台)	企业拥有网站数(个)	有电子商务活动的企业数(个)	电子商务销售额(亿元)	
						销售给单位金额(B2B)	销售给个人金额(B2C)
交通运输业	30804	6608281	1601025	13577	1000	1501.4	462.1
房地产业	90825	4567142	1711321	36504	1153	12.6	10.3
租赁服务业	25659	4126400	1410417	16951	1243	443.9	221.6
餐饮业	43809	4383621	832888	21269	3912	51.4	34.3
文化产业	4262	509065	305439	3549	542	41.0	7.8

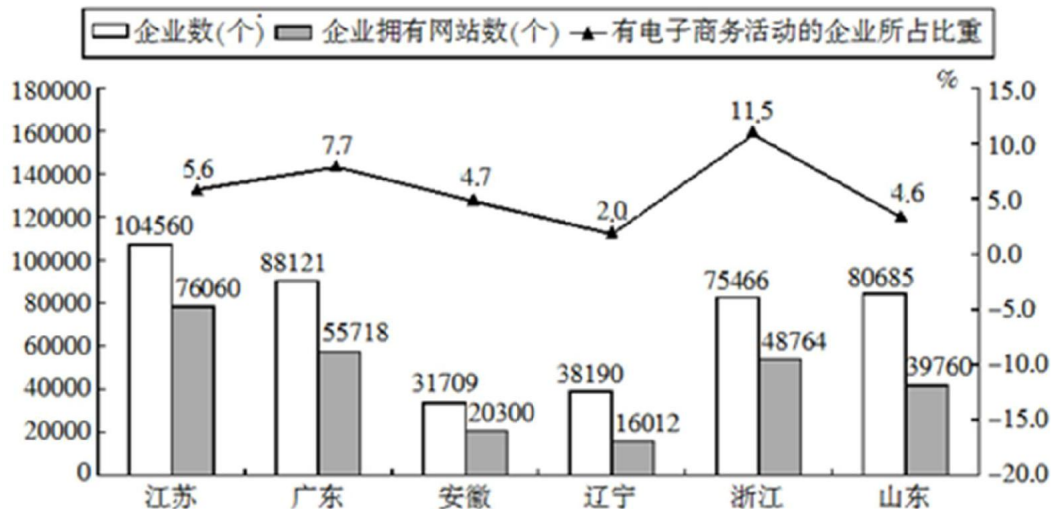


图 2013 年按地区分企业信息化及电子商务情况

106.2013 年有电子商务活动的企业占所在行业企业数比重最大的是:

- A.租赁服务业 B.文化产业 C.餐饮业 D.交通运输业

107.2013 年每百家企业拥有网站个数从低到高排序正确的是：

- A. 辽宁-山东-安徽-江苏 B. 江苏-辽宁-山东-广东
C. 辽宁-山东-浙江-广东 D. 山东-浙江-辽宁-江苏

108.2013 年餐饮业 B2B 电子商务销售额占其电子商务销售额的比重较房地产业：

- A.约高 5 个百分点 B.约低 5 个百分点
C.约高 10 个百分点 D.约低 10 个百分点

109.2013 年山东省有电子商务活动的企业个数较广东省：

- A.约少 2140 个 B.约少 3070 个
C.约多 2140 个 D.约多 3070 个

110.能够从上述资料推出的是：

- A.2013 年房地产业不足 1 成的企业没有电子商务活动
B.2013 年企业拥有计算机数越多的行业，企业拥有网站数也越多
C.2013 年企业拥有网站数最多的省份其网站数比最少的省份多 59948 个
D.2013 年电子商务销售额最少的行业为房地产业

三、根据下列资料，回答 111~115 题。

2014 年全国电影总票房 296.4 亿元，同比增长 36.2%，其中国产片占总票房的 54.5%。全年国产影片海外销售收入 18.7 亿元，同比增长 32.3%；全年影院观众人次达到 8.3 亿，同比增长 34.5%。

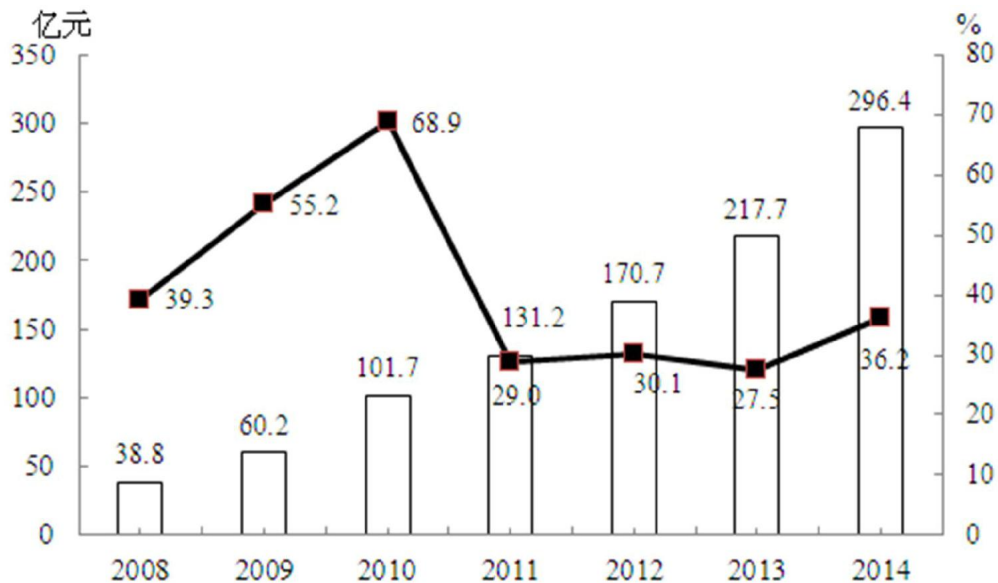


图 2008~2014 年我国电影票房总收入及其同比增速

111.2008~2014年,我国电影票房收入增长最多的一年,其增长量为多少亿元?

A.10.9 B.78.7 C.41.5 D.296.4

112.2014年,我国电影市场平均每张电影票售价为多少元?

A.29.6 B.33.1 C.35.7 D.36.2

113.2014年,非国产片票房收入比国产片少多少亿元?

A.26.7 B.39.5 C.134.8 D.161.6

114.2013年,我国国产电影海外销售收入为多少亿元?

A.12.5 B.13.3 C.14.1 D.15.2

115.以下说法正确的是:

A.2010~2014年,我国电影票房每年增量均高于上一年

B.2011年,我国电影票房收入超过2008~2014年票房平均收入

C.2014年,我国电影票房收入相比2008年翻了不足3番

D.2013年,我国电影票房收入占“十二五”时期票房总收入的比重约为18.7%

四、根据下列资料,回答116~120题。

2013年,武汉市共有法人单位12.64万个,比2008年和2004年分别增长24.0%和2.40倍。法人单位从业人员414.17万人,比2008年和2004年分别增加69.84万人和188.44万人。其中,第二产业190.10万人,分别增加25.17万人和80.17万人;第三产业224.07万人,分别增加44.70万人和108.30万人。有证照个体经营户从业人员70.86万人,分别增加12.32万人和22.82万人。

2013年,武汉市法人单位资产总计78033.11亿元,其中,第二产业占22.0%,第三产业占78.0%。分行业看,资产总计排在前3位的分别是金融业占30.0%,工业占15.3%,房地产业占13.8%,租赁和商务服务业占12.8%。2013年,武汉市法人单位平均人数32.77人,比2008年减少1.02人,下降3.0%;法人单位户均资产总计6173.51万元,比2008年增加2506.88万元,增长68.4%;法人单位人均资产总计188.41万元,增加79.90万元,增长73.6%。

在13个副省级城市中,武汉市法人单位数居第5位,低于深圳(23.77万个)、杭州(20.54万个)、广州(19.92万个)和宁波(16.67万个)等4城市,比最高的深圳少11.13万个,比最低的哈尔滨多6.37万个,比13城市平均水平多0.06万个。

武汉市小微企业法人单位10.37万个,在13个副省级城市中居第5位,低于深圳(21.83万个)、杭州(18.13万个)、广州(16.92万个)和宁波(14.62万个)等4城市,比最高的深圳少11.46万个,比最低的哈尔滨多5.72万个,比13城市平均水平少0.25万个。

企业法人资产总计7.80万亿元,在13个副省级城市中居第6位,低于深圳(16.68万亿元)、

广州（13.23 万亿元）、成都（11.14 万亿元）、杭州（8.52 万亿元）和南京（8.17 万亿元）等 5 城市，比最高的深圳少 8.88 万亿元，比最低的哈尔滨多 5.69 万亿元，比 13 城市平均水平多 0.46 万亿元。

小微企业法人资产总计 2.19 万亿元，在 13 个副省级城市中居第 6 位，低于杭州（4.34 万亿元）、深圳（3.57 万亿元）、宁波（3.06 万亿元）、成都（2.95 万亿元）和广州（2.60 万亿元）等 5 城市，比最高的杭州少 2.15 万亿元，比最低的哈尔滨多 1.33 万亿元，比 13 城市平均水平多 0.06 万亿元。

116.2008 年武汉市法人单位数比 2004 年增长百分之几？

- A.274% B.216% C.36% D.174%

117.与 2008 年相比，关于武汉市 2013 年增速排序正确的是：

- A.法人单位资产>法人单位从业人员数>法人单位数
B.法人单位数>法人单位资产>法人单位从业人员数
C.法人单位资产>法人单位数>法人单位从业人员数
D.法人单位从业人员数>法人单位资产>法人单位数

118.2013 年在 13 个副省级城市中，小微企业法人单位数最高的城市其小微企业法人单位数占该市法人单位数的比重比最低的城市多多少？

- A.0.7 个百分点 B.9 个百分点
C.17.7 个百分点 D.19.7 个百分点

119.2013 年武汉市法人单位从业人员数比 2008 年增速最慢的是：

- A.第三产业 B.第二产业
C.全市 D.有证照个体经营户

120.以下关于 2013 年法人单位相关说法错误的是：

- A.在 13 个副省级城市中无论是法人单位数还是企业法人资产哈尔滨都是最低的
B.13 个副省级城市中小微企业法人资产平均水平约 21300 亿元
C.武汉市金融业法人单位资产比房地产业约多 12600 亿元
D.武汉市第二产业法人单位资产大于第三产业

※※※ 全部测验到此结束！ ※※※