

联系电话 023-88287377

官方网站 <http://www.leenjy.com>

沙坪坝沙龙汇文化广场三楼(小龙坎地铁站 1 号出口前行 100 米)

乐恩公考  
www.leenjy.com

专注于公职考试培训

# 2018 重庆市选调应届优秀大学毕业生 到基层工作考试

## 《行政职业能力测验》试卷

### 重要提示:

为维护您的个人权益，确保公务员考试的公平公正，请您协助我们监督考试实施工作。

本场考试规定：监考老师要向本考场全体考生展示题本密封情况，并邀请 2 名考生代表验封签字后，方能开启试卷袋。

条形码  
粘贴处

请将此条形码揭下，  
贴在答题卡指定位置



## 第一部分 常识判断

(共 15 题, 参考时限 10 分钟)

根据题目要求, 在四个选项中选出一个正确答案。本部分共 15 题, 每题 1 分。

请开始答题:

1. 党的十九大提出, 中国特色社会主义进入新时代, 我国社会主要矛盾是( )之间的矛盾

- A. 人民日益增长的物质文化需要同落后的发展
- B. 人民日益增长的物质文化需要同落后的社会生产
- C. 人民日益增长的美好生活需要和不平衡不充分的发展
- D. 人民日益增长的美好生活需要和不协调不充分的发展

2. 从现在到二〇二〇年, 是( )

- A. 大发展大变革大调整时期
- B. 全面建成小康社会决胜期
- C. “两个一百年”奋斗目标的历史交汇期
- D. 中国特色社会主义进入新时代的关键时期 位和作用, 说明推动长江经济带发展必须坚持

3. 习近平总书记曾指出, 长江和长江经济带的地位和作用, 说明推动长江经济带发展必须坚持 ( ) 的战略地位。

- A. 开放先行, 创新发展
- B. 区域优先, 协调发展
- C. 生态优先, 绿色发展
- D. 文明先行, 健康发展

4. 按照国际标准, 目前我国人均国民总收入超过 8000 美元, 属于( )

- A. 中等偏上收入国家
- B. 中等收入国家
- C. 接近高收入国家
- D. 高收入国家

5. 2017 年 10 月 1 日起实施的《中华人民共和国民法总则》规定, ( ) 以上的未成年人为限制民事行为能力人。

- A. 两周岁
- B. 八周岁
- C. 十四周岁
- D. 十六周岁

6. 关于大数据分析, 下列哪一表述是不正确的? ( )

- A. 大数据分析经常用来进行预测性分析
- B. 大数据分析会经常采用抽样调查的方法来分析数据
- C. 大数据分析能分析语音和图像的数据
- D. 大数据分析需要在大量的经过专业处理后数据基础上进行分析

沙坪坝沙龙汇文化广场三楼(小龙坎地铁站1号出口前行100米)

7. 下列我国古代器具中，不属于炊具的是()

- A. 鼎      B. 釜      C. 鬲      D. 盃

8. 前不久，位于印度尼西亚巴厘岛东部的阿贡火山持续喷发，当地超过10万民众被迫撤离。以下关于火山的说法正确的是()。

- A. 岩浆上升过程中，越靠近地表压力越大  
B. 阿贡火山是由于洋脊上的岩石圈断开，造成岩浆溢出而形成的  
C. 我国火山分布和活动集中在东北和青藏高原  
D. 我国活火山数量较少，基本处于休眠状态，因此火山监测工作不太重要

9. “月上柳梢头，人约黄昏后”描写的是我国哪个传统节日?()

- A. 元宵节      B. 端午节      C. 七夕节      D. 中秋节

10. 2017年11月30日，我国首颗暗物质科学卫星——( )号在轨运行近两年后，成功获取了目前国际上精度最高的电子宇宙射线探测结果。

- A. 墨子      B. 天宫      C. 天眼      D. 悟空

11. 宰相是我国古代最高的行政官员，主要任务是辅佐帝王掌管国事。宰相最初起源于春秋时期，在随后的历朝历代中，宰相都发挥着重要作用。然而，废除宰相一职的皇帝是()。

- A. 唐高宗      B. 宋徽宗      C. 明太祖      D. 清太宗

12. 我国目前的能源结构以( )为主。

- A. 煤电      B. 水电      C. 核电      D. 风电

13. 俗语“数九寒天”中的“数九”是从( )开始的。

- A. 冬至那天      B. 冬至次日      C. 立冬那天      D. 立冬次日

14. Word文档的编辑中，以下键盘命令不属于剪贴板操作命令的是( )。

- A. Ctrl+X      B. Ctrl+A      C. Ctrl+C      D. Ctrl+V

15. 下列说法正确的一项是()。

- A. 就银行卡来说，芯片卡的安全性要高于磁条卡  
B. 在“自由港”进出的任何商品都不需要交关税  
C. 天然气是一种清洁能源，燃烧将不产生污染物  
D. 就医过程中常常用酒精来消毒，其浓度为90%

**※※※第一部分结束，请继续做第二部分！※※※**

## 第二部分 言语理解与表达

(共30题, 参考时限20分钟)

本部分包括表达与理解两方面的内容, 请根据题目要求, 在四个选项中选出一个最恰当的答案。

本部分共30题, 每题1分。

请开始答题:

16. 共享时代, 对社会诚信“质地不均”的问题, 不能\_\_\_\_\_。诚信是市场经济的基石, 共享经济要行稳致远, 重中之重就在于打牢诚信的基石。

依次填入划横线部分最恰当的一项是()

- A. 心不在焉    B. 有目共睹    C. 视若无睹    D. 掩人耳目

17. 那些美好的回忆深深地\_\_\_\_\_鲁迅的心头, 像闪光的露珠\_\_\_\_\_于清晨的片片花瓣。

依次填入划横线部分最恰当的一项是( )

- A. 留在 散落    B. 烙在 散落    C. 印在 停留    D. 存于 停驻

18. 在城墙的横断面上, 依稀可见从商周到明清各朝代夯筑的墙体。这些墙体层层堆积, 构成了护卫这座城池的\_\_\_\_\_, 也写下了这片土地久远的历史。走进河南, 会让人立刻\_\_\_\_\_到深邃的历史与文化的海洋中。

依次填入划横线部分最恰当的一项是()

- A. 天堑 沉溺    B. 屏障 沉浸    C. 屏风 沉醉    D. 遮挡 陶醉

19. 历代格言警句有如哲学小说, 给人沉思的空间, 对人也是一种心理支持。《叔本华的治疗》中, 男主人公就是通过从存在主义哲学中汲取营养, 自我疗愈。温暖的心灵鸡汤具有\_\_\_\_\_功能, 仿佛红尘浊世中的一缕清风, 抚慰\_\_\_\_\_忙碌的身心, 给人们一个富有禅意的愿景和片刻的宁静。

依次填入划横线部分最恰当的一项是( )

- A. 抚慰 焦急    B. 安慰 焦躁    C. 安定 孤寂    D. 安抚 焦灼

20. 随着移动互联网的发展, 公益搭上了“互联网+”的快车道, 网络公益众筹平台如\_\_\_\_\_般应运而生, 成为新的求助信息“发布窗口”。众筹平台“轻松筹”创始人于亮表示: “网络公益众筹\_\_\_\_\_了传统公益在时间和空间上的限制, 通过社交熟人关系为大病患者提供了高效便捷、随手公益的筹款渠道。”

依次填入划横线部分最恰当的一项是()

- A. 寥若星辰 突破    B. 浩如烟海 破除  
C. 雨后春笋 打破    D. 星罗棋布 冲破

21.八年前差点登上美国总统宝座的希拉里，她的竞选背景和演讲技能似乎\_\_\_\_\_，最后却屈尊为国务卿。2016年大选，接近希拉里的人士认为，希拉里一向给人过分\_\_\_\_\_的女强人印象，这对参选总统来说未必是件好事。她还需要让选民看到其亲民的一面，让人觉得她更有人情味儿。

依次填入划横线部分最恰当的一项是()

- A.无可争辩 强硬      B.无坚不摧 强悍  
C.无懈可击 硬朗      D.无与伦比 强势

22.较大的孩子若还未有阅读习惯，那么每天试着关掉电视、计算机半小时，陪他静坐在桌前一起阅读，你看你的书、他看他的书，\_\_\_\_\_“一目十行”地快速阅读，一天两天、一周两周下来，他便能慢进人状况，静下心来看完手中的书了，这期间别去考察他看了多少，\_\_\_\_\_他主动想讨论、分享，\_\_\_\_\_父母就仅仅作一个伴读者就可以了。

依次填入划横线部分最恰当的一项是()。

- A.尤其      只有      其实      B.或      除非      不然  
C.特别是      要么      否则      D.尤其      要么      否则

23.媒体人并非正义化身，也无需对\_\_\_\_\_键盘革命、引领所谓舆论导向自喜，但职业属性却赋予了其某些不可替代性:他们在记录社会中，也内蕴了道成肉身的向度，他们编织的或是琐屑文字、质朴真章，却是在\_\_\_\_\_公众知情、监督等权利上的伤口。锁镣之下，他们唯有以某些刺破脓疮的尖锐为道场，\_\_\_\_\_之中，他们不得不背起责任行囊.....这些事宣传文本和养生帖无法代偿的社会价值溢出。

依次填入划横线部分最恰当的一项是( )。

- A.号召      吮吸      革新      B.发动      舔舐      鼎革  
C.动员      吮吸      变革      D.策划      舔舐      改革

24.没有定力，难成大事。生活中不难看到这样的例子，有的人构想美好人生愿景，规划宏伟人生蓝图，但\_\_\_\_\_、三天打鱼两天晒网，最终一事无成;有的人在人生道路上遇到困难挫折，不是奋发有为、愈挫愈勇，而是怨天尤人、\_\_\_\_\_，甚至自暴自弃、悲观厌世，结果\_\_\_\_\_、毫无建树。

依次填入划线部分最恰当的一项是( )

- A.心猿意马      自怨自艾      蹉跎岁月  
B.心不在焉      悔不当初      虚度年华  
C.见异思迁      引咎自责      马齿徒增  
D.朝三暮四      任劳任怨      徒劳无功

25.下列各句中，加横线词语使用不恰当的一项是( )。

- A.听说这家晚报将举办高校招生咨询会，请有关专家答疑解惑，考生和家长都喜出望外
- B.中国茶艺和日本茶艺各有特点，但异曲同工，都强调“和”的精神
- C.短暂的绘画生涯能取得如此令人侧目的成就，凡高应该感谢他那手足情深的弟弟一提奥
- D.沿着乌江且行且看，能够领略沿江两岸鲜为人知的民族文化

26.①因为自然科学是反映自然规律的知识体系，能经得起科学实验的检验，具有客观性，并能被广泛应用于社会生产领域以创造价值

②但科技史由于是自然科学的历史，具有自然科学的特点，因此也就有了自己独特的一面，其中就包括特殊的实用性和应用性。

③史学是研究人类历史及其发展规律的学科，察往知来、古为今用是史学的重要功能，但这并不是主张史学要有实用性、应用性

④毕竟，“人不能两次踏人同一条河流”，任何发生过的事情都不会一成不变地重演，史学的以古鉴今、古为今用指的是从历史中汲取智慧，而不是拿历史来硬套今天的事

⑤这也是为什么中医历史文献的相关记载能够启发 1600 多年后的科学家们开展提取青蒿素的医学实验

⑥与自然科学一样，科技史也具有较强的应用价值

将以上 6 个句子重新排列，语序正确的是( )。

- A.⑥②①⑤③④
- B.③①④⑥②⑤
- C.③④②①⑥⑤
- D.⑥③②①④⑤

27.下列各句中，用语正确的一句为( )

- A.人们是文艺创作的源头活水，一旦离开人们，文艺就会变成无根的浮萍、无病的呻吟、无魂的驱壳
- B.如果说像箍桶巷这样的老地名，那么诸如杏花村这样已经消失的地名则是文脉支流的延续
- C.汉字，是人类文明里唯一继承了超过五千年的文字，是我们中华民族文艺史上的深根
- D.若论创作技巧，伟大的艺术家大概都有过对生活最深的感触和体察

28.基础科学的精神在于穷理。基础科学研究需要经过刻苦训练、需要有深度的看法，才会有好的结果、好的创意。因此，基础科学研究不经过旷日持久的付出，很难有成功的机会。有些人因而认为，与其如此辛苦，不如等别人做好基础科学研究后拿过来用。但持此观点的人忘记了一点：\_\_\_\_\_才最了解其长短，才能掌握其中的精髓，应用起来才能得心应手。

填入划横线部分最恰当的一句是( )。

- A.只有经历过实践证明
- B.只有自己体悟出来的理论
- C.只有不断挖掘深度
- D.只有持久付出



29.有些话很消极,却又都是真相。比如:“你努力过后才发现,智商的鸿沟无法逾越。努力了也不一定就成功,这是现实的一部分,一件事情的成功取决于多个因素,自身条件、环境因素、经济条件,等等。所以,这种话令我们看到事情真实的一面,我们可以脚踏实地,作出更实际的选择。灰姑娘不一定非要找白马王子。一旦你特别努力,却依然没有得到,更容易崩溃。\_\_\_\_\_。

- A.因此,有人觉得“心灵鸡汤”段子其实味同嚼蜡
- B.因此,有人觉得“心灵砒霜”段子更发人深省。
- C.因此,有人觉得“心灵砒霜”段子存在一定的摧毁性
- D.因此,有人觉得“心灵鸡汤”段子不如“心灵砒霜”段子实在

30.有人强调,中国需要软实力建设,这个提法总体上是正确的。然而必须看到,中国作为一个5000年文明“香火”从未间断的大国,一个崇尚哲理而非宗教的大国,一个几千年就拥有“世界大同”理念并懂得“修身、齐家、治国、平天下”的大国,并不缺软实力,而是面对数百年来西方主导的硬实力文明,我们必须从硬实力上超过他们,才能发挥中国软实力的作用。

对上述文字理解正确的是( )。

- A.软实力是建立在硬实力基础之上的
- B.对中国而言,软实力和硬实力建设并重
- C.中国不缺乏软实力,因此需要建设硬实力
- D.西方的硬实力和软实力均超过了我国

31.在城市民谣势头正盛之时,民谣界似乎也在逆势而动,涌动着一股“去都市化”的暗潮。南北方、理想、姑娘,构成了当下热门民谣的三大主题。而承载着这类意象的城市却不是北京这样的一线都市,也不是西北或东北地域文化特色鲜明的二线城市。“去都市化”的主战场集中在丽江、大理、台湾的九份、淡水这样的“小众”情怀爆棚的袖珍型地区,以及山川河流、不知名的乡镇、村落。它们作为民谣里的抒情对象,集中体现了人们对“远方”的向往。

作者接下来最有可能谈论的内容是( )。

- A.城市民谣的繁荣兴盛
- B.民谣“去都市化”的原因
- C.民谣对众生世相的描摹
- D.不同地域特色的民谣主题

32.在人类社会的整个发展过程中,语言有着举足轻重的关键作用,同时也是将人类与其它动物区别开来的重要工具。而在科技产业中,虽然我们非常关注产品的视觉设计和用户体验,但语言对于一款产品能否大卖同样至关重要。以苹果公司为例,在其举办新品发布会时,并不只是在会上播放多支绚丽的广告或将新品提供给与会者把玩,通常还会准备数段图文并茂的演讲来为大家灌输更多的信息,而这些语言信息大多经过了精雕细琢,能够从另4个层面赋予产品新的活力。

根据这段文字,以下说法正确的是( )。



沙坪坝沙龙汇文化广场三楼(小龙坎地铁站 1 号出口前行 100 米)

- A.在人类的发展过程中语言起到了最关键的作用
- B.语言艺术在某些时候要比视觉设计更为重要
- C.现在许多公司都开始重视语言艺术
- D.在科技产业中语言艺术能够给产品带来新的活力

33.人的失败、失意、失恋、失分有许多原因，但有一个很常见的原因则是说话不注意自己的身份与对方的身份，常常造成隔阂，造成误会，造成不良效果，令人十分后悔与不安。于是，有的人干脆下定决心，准备戒口、守嘴，免得祸从口出。但也因此有的人被搞得神经紧张，一紧张便不知如何表达，往往词不达意，张冠李戴。

这段文字意在说明( )。

- A.说话不当很不好但不能因此不敢说话
- B.说话不注意分寸危害很大
- C.祸从口出告诉我们要少说话多做事
- D.不成功有很多种原因

34.自然系统是一个整体，自然系统的可持续生存与进化离不开系统内部子系统之间的协同作用。自然系统复杂的内部结构和不同层级多样的组成往往会通过突现作用产生更高级的功能属性。高层级功能属性的产生是低层级子系统之间非线性相互作用的结果，而非子系统功能的简单加和。维持系统结构的完整是保证系统功能正常发挥的基本前提。因此，只有维护自然系统的结构完整，才能保证自然系统发挥整体功能，并突现出更高意义上的整体价值。

从这段文字我们可以推知( )

- A.自然系统的整体功能大于各子系统功能之和
- B.自然系统的整体价值大于各子系统功能之和
- C.破坏自然系统完整性将无法发挥其整体功能
- D.自然系统的整体价值对人类的意义更为重大

35.黑洞是太空中的恶霸。他们如此巨大，任何光线都逃不过它们的引力。最大的超大黑洞有 10 亿个太阳那么重。它们似乎位于包括银河系在内的每个星系的中心，它们控制着恒星的形成，并且能使时空发生扭曲，要驱动黑洞可是件费劲的事。不过天文学家发现，在离地球 80 亿光年的一个名为 3C 186 的星系里，一个超大黑洞被赶下了中心宝座。现在，它正以每小时近 500 万英里的速度在太空中穿行。研究人员说，只有一个事物能以这样的方式撼动这个超大黑洞，那就是引力波。引力波是宇宙中最为剧变性的事件形成的时空涟漪。

以下关于“黑洞”的说法与原文相符的是( )。

- A.黑洞始终位于星系的中心
- B.引力波是唯一能撼动黑洞的事物
- C.黑洞的巨大能量源自其飞行速度
- D.黑洞是宇宙剧变形成的时空涟漪

36. 与犯罪分子在境外实施的电信诈骗案件相比，境内电信诈骗案件的作案人员多是个人或小作坊方式，有些地方以亲戚同乡关系为纽带，形成地域性职业犯罪群体。他们除了利用网络、电话诈骗外，还利用木马病毒远程盗取受害人的通讯录、手机绑定银行账号，截取短信验证码等，继而实施冒充熟人诈骗、退税诈骗、中奖诈骗等；一旦得手，迅速通过网银转账、第三方支付平台、赌博网站、购买网络游戏点卡装备等方式套现洗钱。

对这段文字的主旨概括最准确的是( )。

- A. 电信诈骗有境外和境内两种
- B. 电信诈骗罪就是典型的跨区域犯罪
- C. 境内电信诈骗案件的显著特征
- D. 电信诈骗犯罪成本低、利润大、易复制

37. 新媒体时代，媒介信息日益碎片化，受众接触媒介时间日益碎片化。我们看似比过去获得了更多的信息，但未经整合的碎片化信息往往只能提供观察真相的一个维度，有时难免流于表面化肤浅化。因此，媒体不能一味给受众提供他想看的内容，而是应该为他构建一个相对完整的全画幅社会图景，警惕被互联网放大的各种偏见和认知误导人们的行为和选择。

最适合做这段文字的标题的是 ( )

- A. 媒体推送不能为聚合而迎合
- B. 新媒体增加了受众的选择权
- C. 受众阅读存在路径依赖问题
- D. 媒体还需要承担相应社会责任

38. 当工业化水平不高时，在技术路线的选择上往往更注重其成本竞争要求，而难以更多地注重其环境友好性，往往不得不以牺牲环境来获得成本竞争优势。此时，生产与环保之间的相斥性非常突出，将生产控制在同环境相容的范围内都得进行很大的努力和做出困难的抉择。权衡中往往“紧迫性超过了重要性”，其后果是产业的大规模发展导致地区生态环境的严重破坏，实际上是以很高的环境成本求得较低的企业生产内部成本，而环境成本的外部性却在技术选择中降低了其重要性。

能够从上述文字推知的是 ( )

- A. 企业生产必须采取高内部成本而非低内部成本
- B. 环境成本外部化意味着企业不必承担环保责任
- C. 企业发展与环境改善两者是鱼和熊掌不可兼得
- D. 承担更多环境成本往往削弱企业成本竞争优势

39.据官方解释, WattUp 基于一系列的混合无线电频率、蓝牙和其他专利技术, 其发射器能够通过低功耗蓝牙和周边兼容设备通讯和定位, 一旦连接, 发射器就可以和发射频率和 WiFi 信号一致的集中射频信号, 通过内置的接收器信号、这些设备就能将这些信号转化为直流电能。此外, WattUp 还能优先为电量少的设备先充电, 当充到指定比例时, 就能为下一个设备充电, 最多能对 12 台设备充电。WattUp 充电范围最广可达到 15 英尺、也就是 4.57 米大小。

根据这段文字, WatUp 最可能是()

- A.一种远程充电技术      B.一种类似发射器之类的东西  
C.一种定位系统          D.一种信号设备

#### 该段文字适用于 40-41 题

《春秋》是我国古代著名的史书, 它与时代是什么关系呢?孟子这样说过:“王者之迹熄而《诗》亡, 《诗》亡然后《春秋》作。”在这里, “王者之迹熄而《诗》亡”可以说是《春秋》作的时代背景。西周至春秋时期, 《诗》不仅与政事有关, 而且是周王室与诸侯国之间以及诸侯国使者相互交往中传递思想的工具, 是统治阶层人物不可缺少的修养, 故有“《诗》以言志”的传统。正因为《诗》有如此重要的分量, 在“《诗》亡”的时代背景下, 孔子作《春秋》。《春秋》与时代的这种关系, 反映了史学发展的基本规律:时代的变动及其特点, 影响着一代代史学家, 促使他们撰写出各具特色的历史著作。

40.最适合做这段文字标题的是()

- A.时代孕育史学          B.史学滋养时代  
C.史学蕴含历史智慧      D.史书传承中华文明

41.文中史学与时代的关系不可以解释下列哪现象?()

- A.“汉兴, 海内统一”是《史记》产生的最重要条件  
B.南宋史学家面对半壁江山撰写《建炎以来系年要录》  
C.鸦片战争后救国图存的时代精神孕育了《海国图志》  
D.《贞观政要》因记载了治国理政方略为历代所重视

#### 该段文字适用于 42-43 题

比起凶猛的大型动物, 其实人类最危险的敌人仍是自己的“堂兄弟”黑猩猩等动物。因为人类控制世界最大的倚仗, 就是几千年的科学积淀并由此生产出来的各种工具。其他动物由于生物构造的原因, 即使大脑变得聪明, 也难以借用人类的工具, 只能白手起家, 这无疑大大增加了与人类对抗的难度。而灵长类动物的优势在于, 可以直接将人类的一些工具拿来用, 而且还能在人类技术的基础上, 进一步改造成更适合猩猩使用习惯的工具。这就大大增加了与人类对抗的底气。但真正可能成为人类对手的, 可能是老鼠或者蟑螂等适应能力强且繁殖能力同样强悍的生物。一旦它们拥有相当的智慧, 可能真是人类的灾难—当然, 这会是科幻小说的题材。

42.这段文字最合适的标题是( )。

- A.谁是人类真正的灾难
- B.黑猩猩对抗人类的底气
- C.动物也可能具有智慧
- D.使用工具是智慧的象征

43.灵长类动物是人类最危险的敌人，因为它们( )。

- A.与人类是近亲
- B.能使用和改造工具
- C.进化了聪明的大脑
- D.能生产出各种工具

**这段文字适用于 44-45 题**

艺术家的学养是提高其艺术品质的关键，更直接影响到艺术作品的精神内容和审美意旨。而学养不仅需要技巧上的熟练和文化的渊博，更重要的是陈寅恪所说的“独立之精神，自由之思想”。只有在社会与文化层面上保持独立思考的艺术家，只有在精神领域自由驰骋的人，方可透视历史矛盾在人类精神文化层面上留下的轨迹，只有也必须站立在这样的高度，才能踵事增华、高屋建瓴，用想象的自由去超越经验的事实，才能在艺术层面上实现真正的突破和超越。一个敢于严肃审视社会与历史的艺术家，才能在表层的物象背后触及到存在的本质，发现天地人世间可为之倾身寄命的大美。

44.根据文段内容，作者意在强调( )。

- A.熟练的技巧和渊博的文化是学养的重要内容
- B.艺术层面的突破和超越需凭借想象而非经验
- C.独立思考和精神自由是实现艺术超越的关键
- D.艺术家的勇气和担当是触及物象本质的条件

45.对于“学养”，以下说法符合题意的是( )。

- A.熟练的技巧和渊博的文化是学养的最重要内容
- B.精神内容和审美意旨直接决定着艺术家的学养
- C.艺术学养是历史在精神文化层面上留下的轨迹
- D.提高“学养”必须要增强独立精神和自由思想

**※※※第二部分结束，请继续做第三部分！※※※**

## 第三部分 数量关系

(共15题, 参考时限20分钟)

本部分包括两种类型的题:

一、数字推理:下列各题均是根据某种规律排列的数列, 并缺少其中一项或两项, 请仔细观察每一数列的排列规律, 选出你认为正确的答案。本部分共5题, 每题1分。

请开始答题:

46. 7、5、3、-1、-7、-17、( )

A. -19    B. -24    C. -35    D. -33

47. 6、14、18、( )、28、36

A. 19    B. 22    C. 25    D. 26

48. 1、1、3、18、180、( )

A. 1800    B. 2700    C. 540    D. 3600

49. 4、3、1、12、9、3、17、5、( )

A. 12    B. 13    C. 14    D. 15

50.  $1/2$ 、1、1、( )、 $9/11$ 、 $11/13$

A. 1    B. 2    C. 3    D.  $7/8$

二、数学运算:计算下列各题, 选出你认为正确的答案。本部分共10题, 每题1分。

请开始答题:

51. 嘉陵江是长江的支流, 嘉陵江的水流速度为每小时3千米, 长江的水流速度为每小时4千米, 一艘船上午8点钟从起点出发, 沿嘉陵江顺水航行2小时, 行驶了56千米达到长江, 在长江上还要逆水航行126千米才能到达终点。这艘船到达终点的时间是( )点钟。

A. 13    B. 14    C. 15    D. 16

52. 一社区居委会为丰富居民的业余生活, 专门设立了多个俱乐部邀请居民自愿参加。统计结果如下: 22人参加棋类俱乐部、27人参加了音乐俱乐部、50人参加了戏剧俱乐部、10人参加了棋类和音乐俱乐部、14人参加了音乐与戏剧俱乐部、10人参加了戏剧和棋类俱乐部、8人参加了这三个俱乐部。那么参与活动的居民人数是( )。

A. 57    B. 68    C. 73    D. 84

沙坪坝沙龙汇文化广场三楼(小龙坎地铁站1号出口前行100米)

53.某大学一高年级学生准备在新生报到期间勤工俭学，从批发市场购进80件衬衫，购进价每件40元，起初以每件68.5元的价格售出60件，为了促销，他准备把剩下的衬衫按售价不变但以“买一赠一”的方式全部售出，那么售完该批衬衫一共赚得( )。

- A.4795      B.1995      C.1595      D.1853

54.某加油站每次只能对一辆车进行加油，加满一辆大卡车的油需要7分钟，加满一辆客车的油需要5分钟，加满一辆小汽车的油需要3分钟。现有一辆大卡车、一辆客车、一辆小汽车同时来到加油站加油，合理安排加油顺序，使三辆车总的加油和等待时间最短共需要( )分钟。

- A.25      B.26      C.29      D.32

55.某公路的一侧从一端到另一端每隔3米植一棵树，共挖了49个坑。现在要改成每隔4米植一棵树，那么可以不重新挖的坑共有( )个。

- A.8      B.9      C.11      D.13

56.把一根线对折，对折，再对折，然后从对折后线绳的中间剪开，这线被剪成( )段。

- A.6      B.7      C.8      D.9

57.某射击运动员每次射击命中10环的概率是75%，5次射击有4次命中10环的概率是( )。

- A.31.64%      B.39.55%      C.43.66%      D.50%

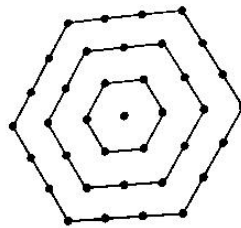
58.某地公交车站顶棚长4米，宽2米，已知该顶棚材料能承受的最大压强为800帕。时下该地正值大雪天气，那么，顶棚上的积雪厚度不超过( )厘米，才不会导致顶棚坍塌。(假定积雪密度与水相同)

- A.1      B.8      C.10      D.80

59.一瓶碳酸饮料，一次喝掉饮料 $\frac{1}{3}$ 后，连瓶共重600克。如果喝掉剩余饮料的 $\frac{1}{2}$ 后，连瓶共重500克。那么，空瓶子重( )克。

- A.100      B.200      C.350      D.400

60.一个六边形点阵，它中心的一个点算作第一层，从内往外依次为第二层，第三层... 那么第50层的点的个数是( )。



- A.294      B.300      C.306      D.312

※※※第三部分结束，请继续做第四部分！※※※



## 第四部分 判断推理

(共 30 题, 参考时限 25 分钟)

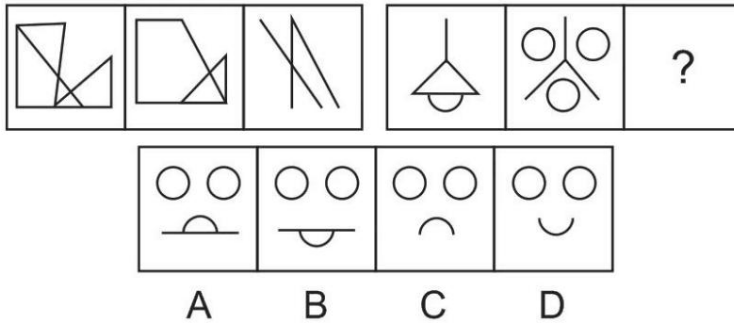
本部分包括四种类型的试题:

一、图形推理:请从所给的四项选择中, 选择最合适的一个填在问号处, 使之呈现一定的规律性。

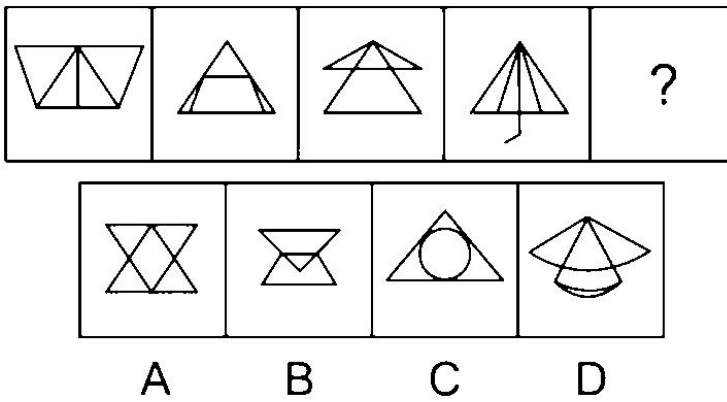
本部分共 5 题, 每题 1 分。

请开始答题:

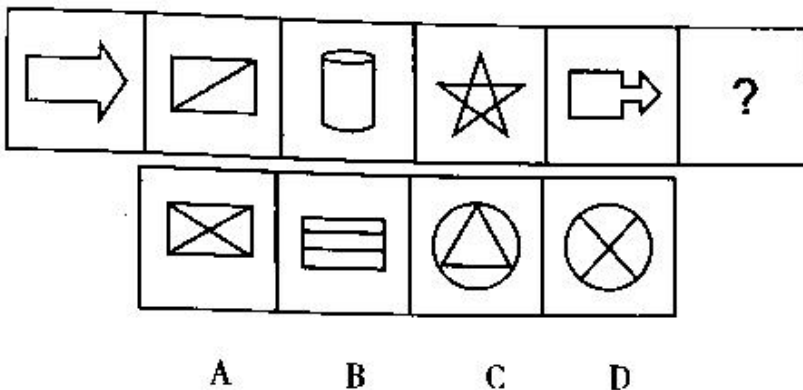
61. 根据图形规律, 填入问号处最合适的一项是 ( )



62. 根据图形规律, 填入问号处最合适的一项是 ( )

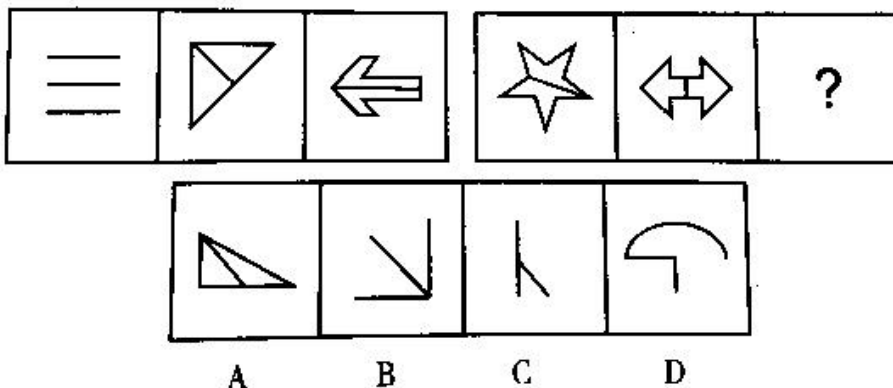


63. 根据图形规律, 填入问号处最合适的一项是 ( )

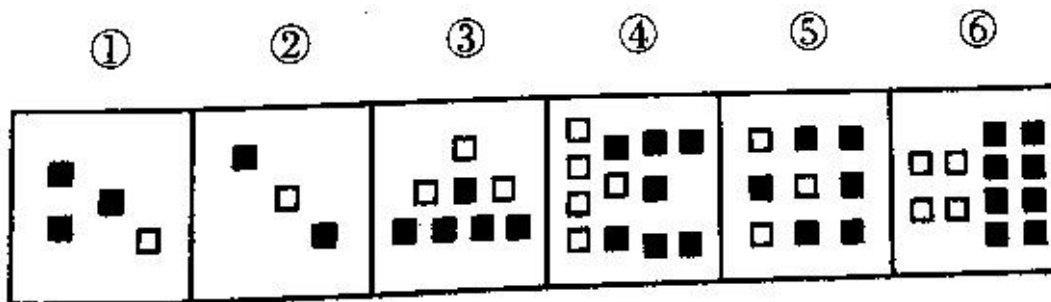


沙坪坝沙龙汇文化广场三楼(小龙坎地铁站1号出口前行100米)

64.根据图形规律,填入问号处最合适的一项是( )



65.把下面六个图形分成两类,使每一类都有各自的共同特征或规律,分类正确的是( )。



A.①③④, ②⑤⑥ B.①③⑥, ②④⑤ C.①④⑥, ②③⑤ D.①②④, ③⑤⑥

二、定义判断:每道题先给出一个概念的定义,然后分别列出四种情况,要求你严格依照定义从中选出一个最符合或最不符合该定义的答案。注意:假设这个定义是正确的,不容置疑的。

本部分共5题,每题1分。

请开始答题:

66.信息茧房:是指在信息传播中,因公众自身的息需求并非全方位的,公众只注意自己选择的东西和使自己愉悦的通讯领域,久而久之,会将自身桎梏于像蚕茧一般的“茧房”中。

根据以上定义,下列现象**没有体现**信息茧房的是( )。

- A.在今日头条客户端,点击条茶叶的消息,之后就会不停收到各种关于茶的养生知识和广告推送
- B.不少幼儿教育机构曝出的虐童事件引发了社会广泛关注
- C.通过RSS订阅自己喜欢的新闻栏目的内容
- D.加入豆瓣的运动、摄影等兴趣小组

67.贝勃定律:是指第一次大刺激能冲淡第二次的小刺激,人们开始受到的刺激越强,对以后刺激也就越迟钝。

根据上述定义,下列属于贝勃定律的是( )。

- A.公司想赶走被视为眼中钉的人,先对这些人降薪,后将他们裁掉

沙坪坝沙龙汇文化广场三楼(小龙坎地铁站1号出口前行100米)

B.公司想赶走被视为眼中钉的人，先对这些人无关的部门进行大规模的人事变动或裁员，然后在后续的裁员时再把矛头指向原定目标。

C.某公司的新产品进入市场后，市场反映良好，但是该公司经过调查认为市场趋于饱和遂决定减少该产品的产量

D.某公司的新产品进入市场后，由于市场反映良好所以扩大该产品的生产

68.精准扶贫，是指针对不同贫困区域环境、不同贫困农户状况，运用科学有效程序对扶贫对象实施精准识别、精准帮扶、精准管理的治贫方式。一般来说，精准扶贫主要是就贫困居民而言的，谁贫困就扶持谁。

根据上述定义，下列属于精准扶贫对象的是（ ）

A.西部山区某村资源匮乏，各家各户的的年轻人几乎都外出务工，只留下老人和小孩在家

B.小王文化水平不高，也没有太多技能，其所在工厂倒闭后就直待业在家，靠领取失业金度日

C.贵州某村庄位于山谷之中，交通十分不便，除了种田之外，该村20余户村民几乎没有其他经济来源

D.张家沟的张大爷和老伴儿相依为命，去年老伴儿不慎摔倒致残，治病几乎花光了家里所有积蓄

69.元语言:是指描写和分析某种语言所使用的一种语言或符号集合。元语言与对象语言是相对的，任何语言，无论它多么简单或者多么复杂，当它作为被谈论的对象的时候，它就是对象语言；当它用来讨论一种语言的时候，它就是元语言。

根据上述定义，下列判断正确的是( )。

A.用汉语翻译一段英语时，英语是元语言

B.用英语翻译一段汉语时，英语是对象语言

C.描述某一对象所用的语言是对象语言

D.以上判断均不正确

70.价格歧视，通常指商品或服务的提供者在向消费者提供相同质量、相同成本的商品或服务时，在不同的消费者之间实行不同的销售价格或收费标准。

根据上述定义，下列选项中属于价格歧视的是( )。

A.某高校恒温游泳馆，为了吸引顾客，在冬季的时候执行优惠票价，比夏季票价便宜5元

B.某电影院在某城市新开了一家分店，为了吸引顾客，票价按另4门店的五折销售

C.某航空公司推出了会员卡服务，持有会员卡的顾客在购票时可以享受八折优惠

D.某出版社再版了鲁迅文集《呐喊》，精装版定价60元，简装版定价40元

三、逻辑推理:每题先给出一段陈述,这段陈述被假设是正确的,不容置疑的。然后分别列出四种情况,要求你根据这段陈述,选出一个与所给陈述最相符合的答案。本部分共 10 题,每题 1 分。

请开始答题:

71.如果俄罗斯参加该集团,那么美国和英国会抵制该集团;如果美国和英国有一国抵制该集团,那么该集团就不能继续存在。事实上是该集团还将继续存在。

如果上述断定为真,那么以下哪项一定为真?

- A.美国参加了该集团
- B.美国没有参加该集团
- C.俄罗斯没有参加该集团
- D.美国和英国至少有一国没有参加该集团

72.卫生部门统计,近年来癌症患者的数目不断增加,有人指出,这是因为空气污染导致的。

以下哪项如果为真,最不能削弱上述观点?

- A.近年来, S 市的空气污染明显加剧,但癌症患者的数目没有明显增加
- B.近年来, T 市的空气没有明显污染,但癌症患者的数目增加明显
- C.近年来, Y 市癌症患者增加了,虽然空气污染加剧了,但其水污染更严重
- D.近年来, N 市的空气质量得到了较大改善,其癌症患者的数目也逐年减少

73.“没有买卖就没有杀害”,这是贝克汉姆、姚明和威廉王子所作的公益广告。尽管市场上部分可以获得的象牙来自于非法捕杀的野象,但有的象牙的来源是合法的,如大象的自然死亡。所以当那些在批发市场上购买象牙的人只买合法象牙的时候,世界上所剩很少的野象群也就不会受到伤害了。

上述论断所依据的假设前提是 ( )

- A.通常象牙产品批发商没有意识到象牙供应减少的原因
- B.今后对合法象牙的需要将持续增加
- C.试图只买合法象牙的批发商能够准确区分合法象牙和非法象牙
- D.目前世界上,合法象牙的批发源较非法象牙少

74.近 50 年来,某市户籍人口的平均寿命提高了 38 岁,达到了 82 岁,居全国最高水平。同时,该市恶性肿瘤的总体发病率和死亡率也逐年上升,目前已经相当于欧美发达国家和地区的 2/3-3/4。在世界范围内处于中等水平,在全国处于较高水平。

由此可以推出( )。

- A.目前该市对于恶性肿瘤的治疗水平是全国最低的
- B.该市恶性肿瘤的总体发病率和死亡率其实比欧美发达国家和地区要低

沙坪坝沙龙汇文化广场三楼(小龙坎地铁站1号出口前行100米)

C. 该市恶性肿瘤的总体发病率和死亡率逐年上升，但此类疾病并不是造成目前该市人口死亡的主要原因

D. 如果50年前导致该市人口死亡的主要疾病的发病率目前没有降低，那么对这些疾病的治疗水平在50年间一定有提高

75. 很多人认为，从军是一项危险的事情。但某国军方统计数据显示，去年军人的死亡率是0.2%，而市民死亡率为0.55%。所以，从军比不从军更安全。

以下哪项为真，最能质疑上述结论？

A. 该国军方的统计数据不一定准确

B. 现在是和平年代，军人的死亡率相对较低

C. 近年来，由于环境污染和食品卫生问题，从而导致市民死亡率较高

D. 能从军的都是身体健康的青年，而市民中有很多身体虚弱的老人和病人，从而使得市民死亡率较高

76. 四个商人在谈生意，他们分别是江苏人、云南人、北京人和上海人。他们做的生意分别是加工、批发、零售。其中：

①上海人单独做批发

②北京人不做加工

③江苏人和另外某省人同做一类生意

④云南人不做江苏人做同一类生意

⑤每个人只能做一种生意

根据以上条件，推出江苏人所做的生意是（ ）

A. 加工      B. 批发

C. 零售      D. 和北京人不做同一类生意

77. 加拿大的古动物学家戴尔，罗索认为，如果600万年前没有陨石撞击地球，导致恐龙全部灭绝，伤齿龙就完全可能进化成为代替人类的一种动物——“恐人”，成为地球的主宰。这就是曾经风行一时的“恐人学说”。

以下哪项如果为真，最能支持上述专家结论？（ ）

A. 研究证明，一些恐龙在陨石撞击地球后生存下来

B. 伤齿龙是一种长相呆笨的恐龙

C. 伤齿龙的大脑是恐龙中最大的，而且它的感觉器官非常发达，它被认为是最聪明的恐龙

D. 恐龙灭绝的原因是一个讨论至今仍未有定论的问题

78.一切有利于发展的方针政策都是符合人民根本利益的，反腐败斗争有利于发展，所以反腐败斗争是符合人民根本利益的。

以下哪一个论证与上述论证的推理最为类似?

A.凡是超越代理人权限所签订的都是无效合同，这份房地产开发合同是超越代理人权限签订的，所以它是无效的

B.一切行动听指挥是一支军队能够战无不胜的保证，所以一个地方要发展，必须提倡令行禁止，服从大局

C.如果某产品的供给超过了市场需求，就可能出现滞销。当前手机的供应量超过市场需求。因此，手机出现滞销现象

D.一切反动派都是纸老虎。所以有的纸老虎并不是反动派

79.南方集市在提倡全民健身活动中，把爬山作为一种大家喜爱的健身活动广泛开展起来。一项调查表明，那些称自己每周固定去爬山 1~2 次的人近两年来由 25%增加到 32%，而对该市市民常去的几座主要的山进行实际的调查则显示，近两年来去该市几座主要的山爬山的市民人数却下降。

以下哪项如果为真，最有助于解释上述看来矛盾的断定?

A.调研时，没有考虑调研对象，即爬山主要是青壮年对象

B.随着人们生活改善，大部分市民喜欢开车自驾去爬其他省、市的山

C.该市在人们常去的几座山改善了相关设施，方便人们爬山

D.受调查的登山爱好者只占全市登山爱好者的 10%

80.前不久，广药集团董事长宣布：喝王老吉可以延长寿命大约 10%。据称，通过对 576 只大鼠样本为期两年的安全性实验，发现实验组给予王老吉凉茶的雌性大鼠的统计存活时间为 708.2 天，而对照组雌性大鼠统计存活时间为 675.1 天，实验组比对照组高出 33.1 天，显示王老吉凉茶具有延长动物寿命的作用。因此得出该结论。

以下哪项如果为真，最能够推翻上述结论? ( )

A.动物实验中得出的结论不能直接推广到人身上

B. 实验中只用雌性大鼠，缺少雄性大鼠的数据支持

C.对照组的食谱中缺乏碳水化合物，而实验组摄取的王老吉含有大量糖

D.王老吉凉茶含糖量很高，长期饮用将会摄入大量糖分，不利于健康



沙坪坝沙龙汇文化广场三楼(小龙坎地铁站1号出口前行100米)

四、类比推理。每道题先给出一组相关的词，要求你在备选答案后找出一组逻辑关系上最为贴近、相似或匹配的词。本部分共10题，每题1分。

请开始答题:

81.生产:利润

- A.投入:效益      B.经营:税收  
C.资本:收益      D.本金:回报

82.颓废:奋发

- A.厌恨:发怒      B.爱戴:憎恨  
C.恋爱:分手      D.隐藏:发现

83.联合:合作

- A.淡然:淡泊      B.学习:努力  
C.同事:朋友      D.满意:幸福

84.医生:病人

- A.加油站:汽油      B.法官:原告  
C.股民:企业      D.师傅:徒弟

85.伤心 对于 ( ) 相当于 悲痛 对于 ( )

- A.唏嘘不已 呼天抢地      B.椎心泣血 潸然泪下  
C.唏嘘不已 破涕为笑      D.椎心泣血 呼天抢地

86.( ) 对于 凤梨 相当于 服装 对于 ( )

- A.果树 毛衣      B.苹果 衣服  
C.梨树 鞋帽      D.水果 T恤

87.台风对于( ) 相当于 飓风 对于 ( )

- A.大西洋 太平洋      B.印度洋 太平洋  
C.大西洋 印度洋      D.太平洋 大西洋

88.处理器:硬盘:计算机

- A.大海:湖泊:河流      B.话筒:听筒:电话  
C.单词:句子:文章      D.水分:光照:植物

89.人大代表:会议:提案

- A.赛车手:场地:赛车      B.歌手:演唱会:道具  
C.员工:谈判:胜利      D.运动员:运动会:记录

90.岩石:地壳:地理

- A.热带:赤道:雨林      B.洛杉矶:好莱坞:电影  
C. 单词:句子:文章      D.植物:光照:生物学

**※※※第四部分结束，请继续做第五部分！※※※**

## 第五部分 资料分析

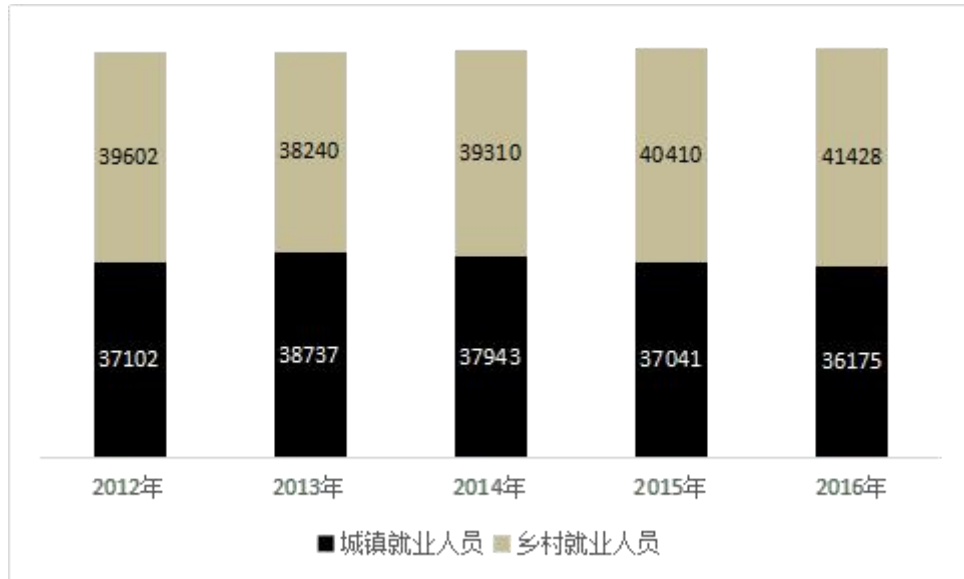
(共10题, 参考时限10分钟)

所给的图、表、文字或综合性资料均有若干问题要你回答。你应根据资料提供的信息进行分析、比较、计算和判断处理。本部分共10题, 每题1分。

一、根据以下材料, 回答91~95题:

2012~2016年全国就业人员数量

单位:万人



91. 2012~2016年, 乡村就业人员与城镇就业人员数量相差最大的是哪一年?

- A.2012年    B.2014年    C.2015年    D.2016年

92. 2014年, 乡村就业人员数量的增长率最接近下列哪一选项?

- A.2.5%    B.2.8%    C.3.4%    D.4.4%

93. 2012~2016年, 城镇就业人员数量占全国就业人员数量比重最高曾达到约?

- A.47.8%    B.48.4%    C.50.3%    D.51.6%

94. 2012-2016年全国就业人员数量增长率最高的是哪一年?

- A.2013年    B.2014年    C.2015年    D.2016年

95. 以下对图中数据分析正确的是( )。

- A. 2012-2016年, 乡村就业人员数量均多于城镇就业人员数量  
B. 2012-2016年, 乡村就业人员数量占全国就业人员数量比重呈逐年递增趋势  
C. 2012-2016年, 乡村就业人员数量的增长率最高的一年是2015年

D. 假设2017年全国就业人员数量的增长率与2016年相同, 则2017年全国就业人员数量约为92813万人

二、根据以下材料，回答第96~100题：

2016年我国基础研究经费为822.9亿元，比上年增长14.9%，明显高于应用研究经费(5.4%)和试验发展经费(11.1%)的增速。基础研究、应用研究和试验发展经费所占科技经费总投入比重分别为5.2%、10.3%和84.5%。

2016年各类企业研发经费支出12144亿元，比上年增长11.6%；政府属研究机构经费支出2260.2亿元，比上年增长5.8%；高等学校科研经费支出1072.2亿元，比上年增长7.4%。企业研发、政府属研究机构、高等学校科研经费支出所占比重分别为77.5%、14.4%和6.8%。

2016年我国东部地区研发经费为10689.4亿元，首次迈上万亿台阶，比上年增长11%，占全社会研发经费的比重为68.2%；中部、西部和东北地区研发经费分别为2378.1亿元、1944.3亿元和664.9亿元，分别比上年增长10.8%、12.3%和0.4%，所占全社会研发经费的比重分别为15.2%、12.4%和4.2%。

96.2015年我国应用研究经费约为多少亿元？()

- A.1546      B.1683      C.833      D.11421

97.2016年各类企业研发经费支出增长速度比政府属研究机构经费支出增长速度

- A.高1倍      B.高2倍      C.高3倍      D.高4倍

98.2016年地区研发经费占全社会研发经费的比重与2015相比降低了的是()。

- A.东部地区      B.中部地区      C.西部地区      D.东北地区

99.若各地区保持2016年研发经费增长速度不变，2017年西部地区研发经费占全社会研发经费的比重为()。

- A.12%      B.12.4%      C.12.6%      D.13%

100.从上述资料中可以推出的是()。

- A.2016年我国应用研究经费比上年增长超过100亿元  
B.2016年各类企业研发经费支出是高等学校科研经费支出的10倍  
C.2016年中部、西部和东北地区累计研发经费还不及东部地区研发经费的一半  
D.各地区研发经费占全社会研发经费的比重是逐年递增的

※※※ 全部测验到此结束！ ※※※